


NUMERATION et CALCULS

Thomas joue au jeu de l'oie et il est sur la case 21.


Il lance



Il arrive sur la case.....

NUMERATION et CALCULS

Trouve la réponse.




33

NUMERATION et CALCULS

Thomas joue au jeu de l'oie et il est sur la case 13.


Il lance



Il arrive sur la case.....

NUMERATION et CALCULS

Trouve la réponse.



21

NUMERATION et CALCULS

Emma veut acheter une jupe qui coûte 29€.


Dans son porte-monnaie, elle a :



Qu'est ce qu'elle va donner à la caisse ?

NUMERATION et CALCULS

Trouve la réponse.



10+10+5+2+2