


NUMERATION et CALCULS


Raphaël a 20 tickets d'entrée pour un concert ; mais il a 40 élèves dans sa classe.

Combien lui manque-t-il de tickets ?



NUMERATION et CALCULS

Trouve la réponse.




20

NUMERATION et CALCULS

Théo joue au jeu de l'oie et il est sur la case 16.

Il lance




et il doit reculer.



Sur quelle case va-t-il arriver?

NUMERATION et CALCULS

Trouve la réponse.



11

NUMERATION et CALCULS

Mathix joue au jeu de l'oie et il est sur la case 39.

Il lance




Il arrive sur la case.....



NUMERATION et CALCULS

Trouve la réponse.



45