

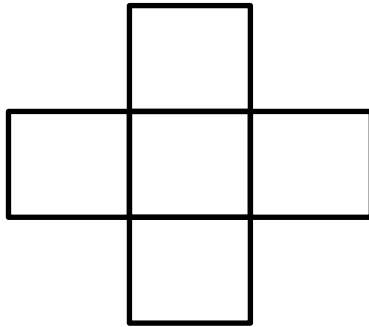
Rallye maths CP - Manche 2

Feuille de réponses

1

Regarde cette forme. Il faut mettre les chiffres de 1 à 5 dans les cases.

Il faut que la somme de la ligne et de la colonne soit la même. **Trouve une solution avec les chiffres de 1 à 5.**





2

Sonia, Antoine, Marie et Léo ont des yeux de couleur différente : noirs, bleus, verts ou gris.
Marie a les yeux gris et Antoine n'a pas les yeux verts.
L'une des filles a les yeux noirs.

Donne la couleur des yeux des 4 personnes.

3

Regarde cette construction de cubes : Les cubes sont tous posés sur une table, il n'y a pas de trous cachés.
Combien faut-il de cubes  pour refaire la même construction ?



4

Regarde les balances :

Range du plus léger au plus lourd les trois aliments :

..... < <

