

prénom : _____
 date : _____


Évaluation « nombres et calculs »



Item 41 : écrire les nombres de 0 à 100

Dictée de nombres :

| | | | | |
|--|--|--|--|--|
| | | | | |
| | | | | |



Item 40 : lire les nombres de 0 à 100

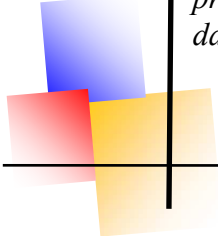
Lire à voix haute les nombres suivants :

| | | | | | | | | | |
|----|----|----|----|----|----|----|----|----|----|
| 45 | 54 | 28 | 38 | 61 | 88 | 98 | 32 | 59 | 95 |
| 78 | 63 | 92 | 57 | 76 | 99 | 68 | 72 | 70 | 90 |

Relie :


| | |
|----|---|
| 63 | ♦ |
| 73 | ♦ |
| 82 | ♦ |
| 92 | ♦ |
| 70 | ♦ |

| | |
|---|--------------------|
| ♦ | Soixante-trois |
| ♦ | Quatre-vingt-deux |
| ♦ | Soixante-treize |
| ♦ | Soixante-dix |
| ♦ | Quatre-vingt-douze |



prénom : _____
 date : _____


Évaluation « nombres et calculs »



Item 41 : écrire les nombres de 0 à 100

Dictée de nombres :

| | | | | |
|--|--|--|--|--|
| | | | | |
| | | | | |



Item 40 : lire les nombres de 0 à 100

Lire à voix haute les nombres suivants :

| | | | | | | | | | |
|----|----|----|----|----|----|----|----|----|----|
| 45 | 54 | 28 | 38 | 61 | 88 | 98 | 32 | 59 | 95 |
| 78 | 63 | 92 | 57 | 76 | 99 | 68 | 72 | 70 | 90 |

Relie :

| | |
|----|---|
| 63 | ♦ |
| 73 | ♦ |
| 82 | ♦ |
| 92 | ♦ |
| 70 | ♦ |

| | |
|---|--------------------|
| ♦ | Soixante-trois |
| ♦ | Quatre-vingt-deux |
| ♦ | Soixante-treize |
| ♦ | Soixante-dix |
| ♦ | Quatre-vingt-douze |

Complète les suites de nombres :

| | | | | | | | | | |
|----|--|--|--|----|--|--|----|--|--|
| 70 | | | | 74 | | | 77 | | |
| 80 | | | | | | | 87 | | |
| | | | | 94 | | | 97 | | |



Item 44 : comparer les nombres de 0 à 100

Mets le signe qui convient : < ou > ou =

67 ____ 76

56 ____ 65

23 ____ 32

99 ____ 100

54 ____ 45

79 ____ 79

78 ____ 87

81 ____ 18

Complète les suites de nombres :

| | | | | | | | | | |
|----|--|--|--|----|--|--|----|--|--|
| 70 | | | | 74 | | | 77 | | |
| 80 | | | | | | | 87 | | |
| | | | | 94 | | | 97 | | |



Item 44 : comparer les nombres de 0 à 100

Mets le signe qui convient : < ou > ou =

67 ____ 76

56 ____ 65

23 ____ 32

99 ____ 100

54 ____ 45

79 ____ 79

78 ____ 87

81 ____ 18



Item 45 : ranger les nombres de 0 à 100

Range dans l'ordre croissant : 45 - 23 - 86 - 97 - 72

| | | | | |
|--|--|--|--|--|
| | | | | |
|--|--|--|--|--|

Range dans l'ordre décroissant : 34 - 38 - 56 - 77 - 94

| | | | | |
|--|--|--|--|--|
| | | | | |
|--|--|--|--|--|



Item 45 : ranger les nombres de 0 à 100

Range dans l'ordre croissant : 45 - 23 - 86 - 97 - 72

| | | | | |
|--|--|--|--|--|
| | | | | |
|--|--|--|--|--|

Range dans l'ordre décroissant : 34 - 38 - 56 - 77 - 94

| | | | | |
|--|--|--|--|--|
| | | | | |
|--|--|--|--|--|



Item 46 : encadrer un nombre par deux autres

Encadre les nombres suivants :

| | |
|------------|------------|
| ___ 88 ___ | ___ 52 ___ |
| ___ 92 ___ | ___ 28 ___ |
| ___ 67 ___ | ___ 31 ___ |
| ___ 47 ___ | ___ 75 ___ |



Item 47 : comprendre la notion de dizaine et d'unité

Complète :

| | | |
|--|----------|--------|
| | | |
| | dizaines | unités |
| | | |

| | | |
|--|----------|--------|
| | | |
| | dizaines | unités |
| | | |



Item 46 : encadrer un nombre par deux autres

Encadre les nombres suivants :

| | |
|------------|------------|
| ___ 88 ___ | ___ 52 ___ |
| ___ 92 ___ | ___ 28 ___ |
| ___ 67 ___ | ___ 31 ___ |
| ___ 47 ___ | ___ 75 ___ |



Item 47 : comprendre la notion de dizaine et d'unité

Complète :

| | | |
|--|----------|--------|
| | | |
| | dizaines | unités |
| | | |

| | | |
|--|----------|--------|
| | | |
| | dizaines | unités |
| | | |

Compte les bonbons et complète :



| dizaines | unités |
|----------|--------|
| | |

Il y a bonbons.

Compte les bonbons et complète :



| dizaines | unités |
|----------|--------|
| | |

Il y a bonbons.

Représente le nombre **25** (avec des paquets de dix) :

Représente le nombre **25** (avec des paquets de dix) :