

**Évaluation de Mathématiques : Mesure de masses - CM1**

Savoir convertir une mesure de masses d'une unité à l'autre.	A B C D
Comparer les unités de masses.	A B C D
Utiliser les unités de masses.	A B C D

**1 Complète les égalités avec la bonne unité de mesure de masse.**

1 532 cg = 15 ..... 32 .....

375 dag = 3 ..... 75 .....

85 hg = 8 500 .....


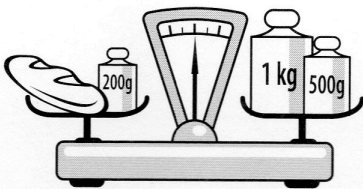
7 500 mg = 75 .....

**2 Range ces masses dans l'ordre décroissant.**

6 kg    74 hg    780 dag    7 250 g    63 hg


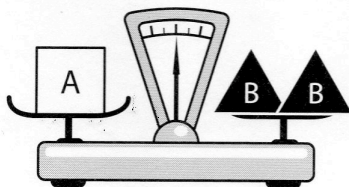
.....

**3 Observe les dessins et donne la masse de chaque objet.**



Pain : .....

Pot de fleurs : .....



A : .....

B : .....

**4 Pierrot mange 3 pruneaux tous les matins au petit déjeuner. Chaque pruneau pèse 5 g. Calcule la masse de pruneaux consommés par Pierrot en une semaine, un mois de 30 jours, une année de 365 jours.**

.....

.....

.....

.....

.....