

1. Calcul mental : Ecrire les résultats de la décomposition



2. Décomposer un nombre sous la forme 10 + ...



2 + 4 = 3 Complète

10 + 6 =

10 + 3 =

10 + = 12

10 + = 15

10 + 9 =

10 + 4 =


10 + = 18

10 + = 17

3. Dénombrer des objets en faisant des paquets de 10




Entoure par 10 et complète



dizaines	unités
<input type="text"/>	<input type="text"/>

Il y a billes.



dizaines	unités
<input type="text"/>	<input type="text"/>


Il y a bonbons.

4. Compléter pour obtenir la quantité demandée



dessine les balles qui manquent.

dizaines	unités
2	8



dizaines	unités
3	6

