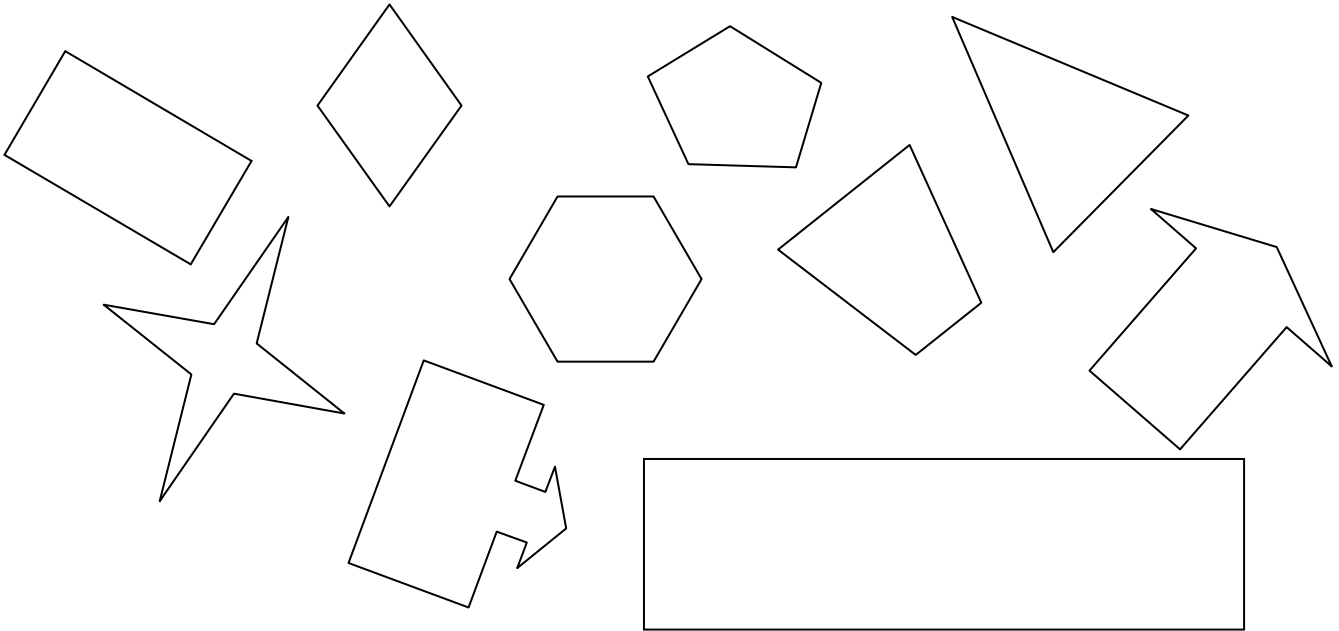
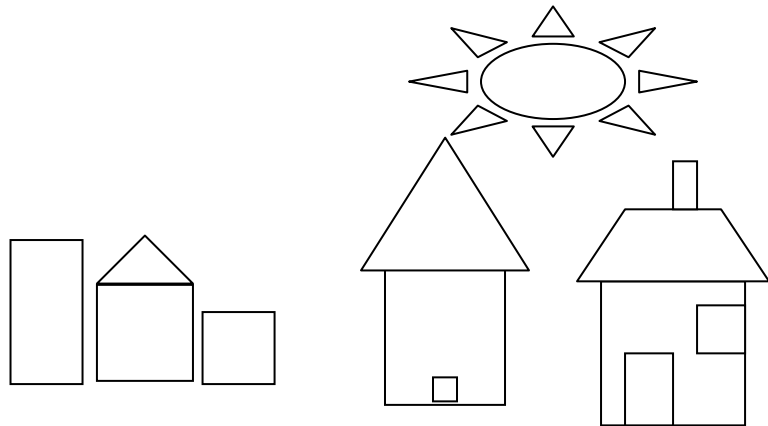


**Les figures planes : contrôle** /45

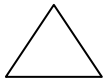
1. Ecris à l'intérieur de chaque forme son nombre de côtés. /10



2. Colorie en rouge tous les carrés, en bleu tous les triangles et en vert tous les rectangles. /10



3. Relie /10




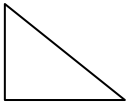
triangle



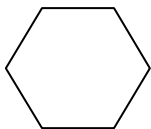
carré





rectangle



disque



autre



4. Vrai ou faux /5

Le carré a 3 côtés. ....

Le triangle a un côté courbe. ....

Le rectangle a 4 côtés de même mesure. ....

Le carré a 4 cotés droits. ....

Il existe des figures planes a 6 côtés. ....

5. Complète les phrases. /6

Le ..... et le .....ont 4 côtés.

Le triangle a ..... côtés.

J'ai 2 grands côtés et 2 petits côtés, je suis le .....

On ne peut pas me tracer à la latte, je suis le .....

Le carré, le rectangle, le triangle et le disque sont des .....

.....

6. Dessine deux carrés. /4

