



1- Range ces durées de la plus courte à la plus longue.

2 j 25 h 46 h 1 j 90 min

..... < < < <

2- Complète.

Dans 1 heure, il y a 60 minutes.

Combien y a-t-il de minutes dans 2 heures ?

.....

Combien y a-t-il de minutes dans 3 heures ?

.....

Combien y a-t-il de minutes dans 10 heures ?

.....

Dans 1 jour, il y a 24 heures.

Combien y a-t-il d'heures dans 2 jours ?

.....

Combien y a-t-il d'heures dans 3 jours ?

.....

Combien y a-t-il d'heures dans 10 jours ?

.....

3- Résous les problèmes.

Tom est parti de chez lui à 8 h 30.
Il rentre à 12 h 30.

Combien de temps Tom est-il parti ?

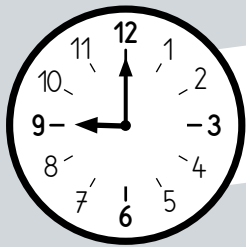
.....

Lilou a un entraînement de foot
de 14 h 00 à 16 h 00.


Combien de temps dure l'entraînement ?

.....

4- Trouve combien de temps chaque personne a dormi.




Heure
du coucher
21 h 00




Heure
du lever
7 h 00

Noa a dormi
pendant

..... heures.



Heure
du coucher
23 h 00



Heure
du lever
8 h 30

Madame Lima
a dormi pendant

..... heures

et minutes.

57B

Nom

Prénom

Date

Maths au CE1

Grandeurs
et mesures



1- Entoure la durée la plus courte dans chaque cadre.

55 min	1 h	1 h	70 min	99 min	1 h
125 min	2 h	20 min	2 h	1 h	90 min

2- Complète avec l'unité qui convient : min, h ou j.

J'ai mis 5 pour réaliser cet exercice.

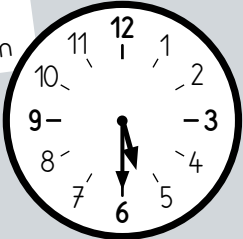
Je suis resté 2 à la piscine.

Je suis partie 7 en vacances dans les Alpes.


Un match de football dure 90

3- Les horaires indiquent le début et la fin d'un film.
Dessine les aiguilles qui manquent sur l'horloge.

début du film

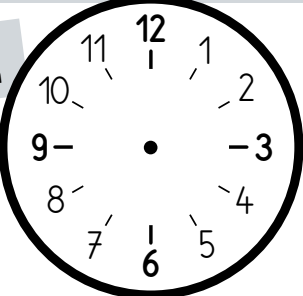


Le film dure 1 h 30 min




fin du film

début du film



Le film dure 2 h



fin du film

57B

Nom

Prénom

Date

Maths au CE1

Grandeurs
et mesures



1- Entoure la durée la plus courte dans chaque cadre.

55 min	1 h	1 h	70 min	99 min	1 h
125 min	2 h	20 min	2 h	1 h	90 min

2- Complète avec l'unité qui convient : min, h ou j.

J'ai mis 5 pour réaliser cet exercice.

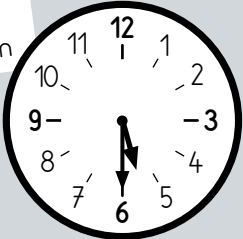
Je suis resté 2 à la piscine.

Je suis partie 7 en vacances dans les Alpes.


Un match de football dure 90

3- Les horaires indiquent le début et la fin d'un film.
Dessine les aiguilles qui manquent sur l'horloge.

début du film

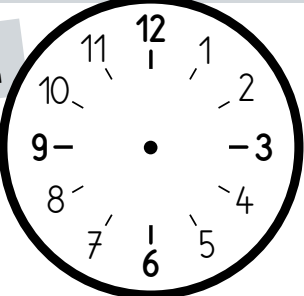


Le film dure 1 h 30 min




fin du film

début du film



Le film dure 2 h



fin du film