

Semaine
4

Les ACTIVITES des MOLDUS

CM1

<http://2maitressesalacampagne.eklablog.com>

Mardi : Calcul.

CALCUL MENTAL

Note les résultats du calcul sur la ligne mardi.

PROBLEME DE RECHERCHE

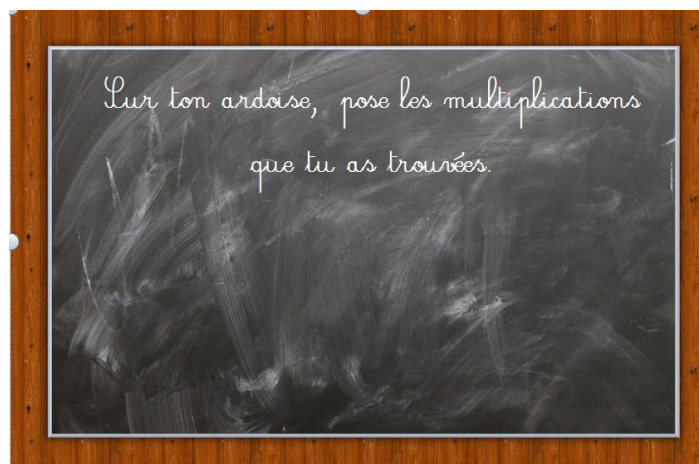


Harry et Ron ont un devoir en arithmancie. Ils doivent résoudre un problème de Moldus et ils ont besoin de ton aide:

Le cinéma de Privet Drive dispose de 168 places, l'entrée coûte 12 €.

- Quelle est la recette de ce cinéma si 115 personnes assistent à la séance ?
- Quelle est la recette de ce cinéma si toutes les places sont occupées.

ARDOISE MAGIQUE



A VOS GRIMOIRES...

Exercice 1 : Effectue les multiplications suivantes.

74×43

68×25

93×32

Exercice 2 : Complète ces mutiplications.

			5	6	2
			x	4	.
			<hr/>		
			1	1	8
			1	1	8
			+	.	.
			<hr/>		
			=	.	.

				8	5
				4	.
				x	.
				<hr/>	
				1	7
				0	8
				+	2
				.	6
				2	.
				<hr/>	
				=	.

Exercice 3 : travail en autonomie

			2	3	2
					8
			x		
			<hr/>		
				4	6
			+		
			<hr/>		
			1	0	7
			0	8	8

			3	5	0
					4
			x		
			<hr/>		
				3	2
			+		
			<hr/>		
			1	1	2
			1	2	8

<http://2maitressesalacampagne.eclablog.com>

Vendredi : mesures- les angles

CALCUL MENTAL

Note les résultats du calcul sur la ligne vendredi.

REVISIONS

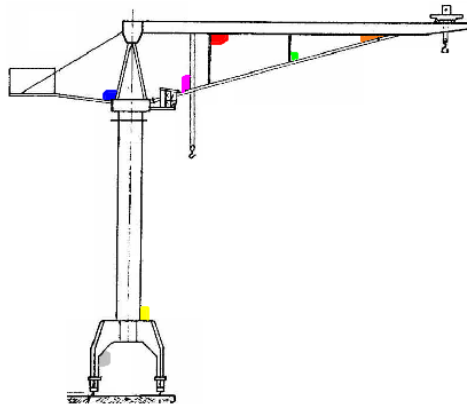
Les angles CM2

L'angle vert est

- un angle aigu
 - un angle obtus
 - un angle plat
 - un angle droit
- ?

SCORE :

La grue



ARDOISE MAGIQUE

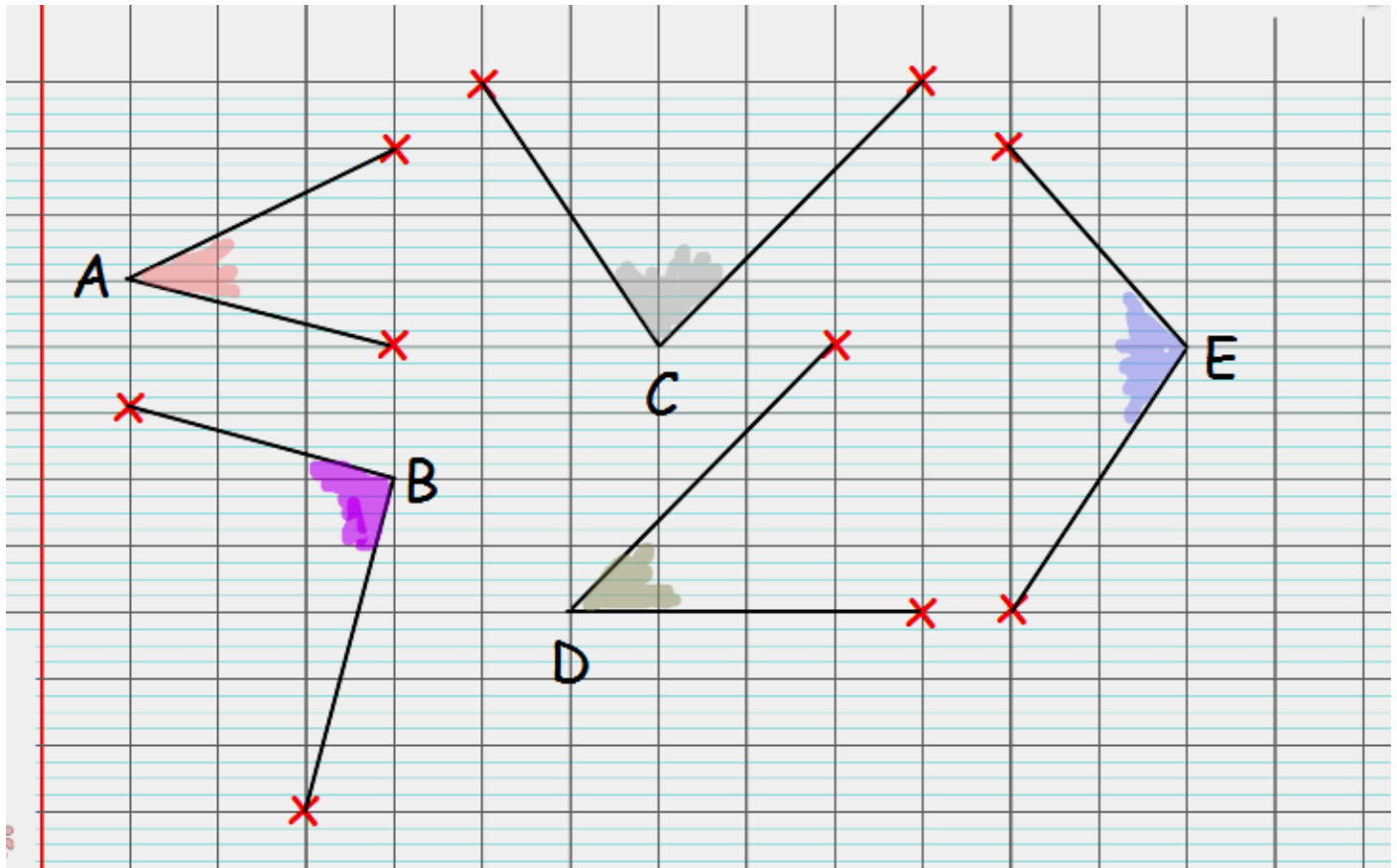
Sur ta feuille de brouillon, trace 1 angle.
A l'aide du papier calque, reproduis 3 fois cet angle.



A VOS GRIMOIRES...

Exercice 1 :

Reproduis les angles sur ta feuille.



Exercice 2 :

Compare ces angles à l'aide d'un papier calque.

Range-les du plus petit au plus grand.

Exercice 3 :

Trace 4 droites qui se coupent en 4 points différents. Colorie les angles aigus en rose et les angles obtus en vert.