



1 - Résous les problèmes suivants. Pose les opérations en ligne, puis écris une phrase réponse.



Ben Ayfiss, le banquier, va mettre deux sacs de PPIT dans le coffre-fort de sa banque. Le premier sac pèse 367 g et le deuxième pèse 259 g de plus. Quel est le poids du deuxième sac de PPIT ?

Opération en ligne :

Phrase réponse :



Ben Ayfiss compte le nombre de PPIT contenues dans deux sacs. Dans le premier, il y a 157 PPIT de moins que dans le second qui en compte 364. Combien de PPIT y a-t-il en tout ?

Opération en ligne :

Phrase réponse :



Dans son ranch, le cowboy Sam Play a 3 enclos. Il y a 361 vaches dans le premier, 543 dans le second et 408 dans le troisième. Combien de vaches possède-t-il en tout ?

Opération en ligne :

Phrase réponse :



2 - Calcule ou complète les opérations suivantes.

$27 + \dots = 59$



$54 + \dots = 95$



$\dots + 19 = 68$



$\dots + 43 = 72$



$28 - 6 = \dots$



$76 - 5 = \dots$



$47 - 3 = \dots$



$89 - 4 = \dots$



$350 + 420 = \dots$



$640 + 210 = \dots$



$250 + 640 = \dots$

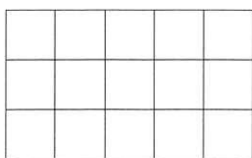


$340 + 530 = \dots$

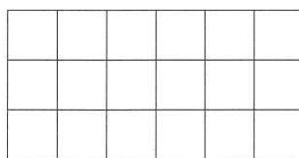


3 - Pose les opérations suivantes (1 chiffre par carreau), puis calcule-les.

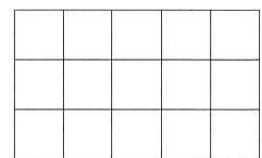
$954 + 347$



$7\ 254 + 5\ 309$



$876 + 4\ 267$



4 - Je pense à un nombre (écris tes calculs).

- Je pense à un nombre, je lui enlève 9, je trouve 14.

Le nombre est.....

- Je pense à un nombre, je lui ajoute 27, je trouve 46.

Le nombre est.....

- Je pense à un nombre, je le multiplie par 2 et je trouve 24.

Le nombre est.....

- Je pense à un nombre, je lui enlève 10 et je lui ajoute 13, je trouve 45.

Le nombre est.....

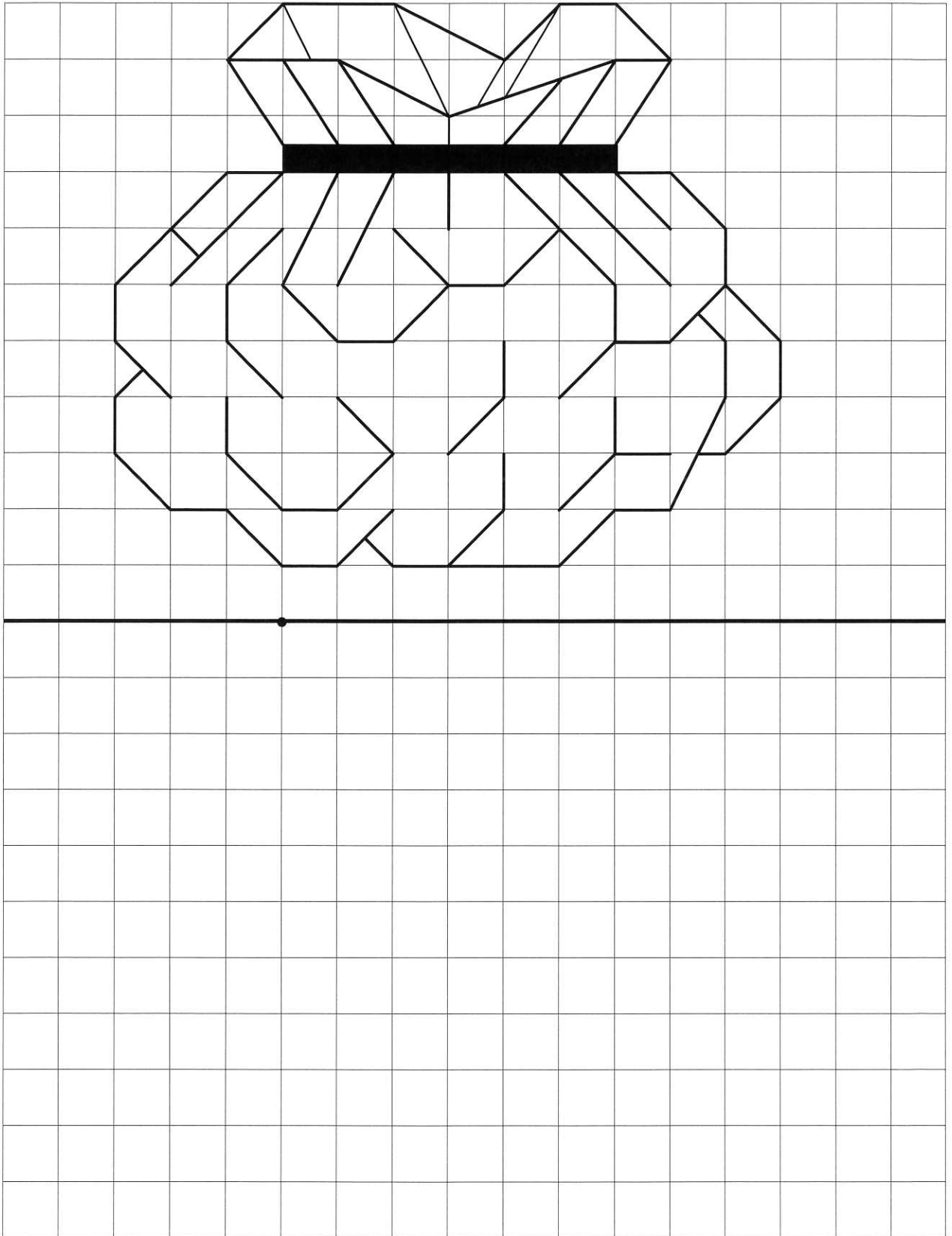


Combien de clés as-tu pour l'instant ?

Reproduis le dessin ci-dessous, puis colorie-le avec les couleurs de ton choix.

● Tracé : clés

● Coloriage : clés



Nombre total de clés :

De 24 à 30 : l'étoile d'or

De 17 à 23 : l'étoile d'argent

De 9 à 16 : le goudron et les plumes

De 0 à 8 : le bannissement