






Prénom : _____


1. 
 $4 + 4 =$ _____


2. 
 $3 + 7 =$ _____


3. 
 $5 + 4 =$ _____


4. 
 $5 + 2 =$ _____


5. 
 $5 + 5 =$ _____


6. 
 $8 + 1 =$ _____


7. 
 $7 + 2 =$ _____

8. 
 $6 + 1 =$ _____

9. 
 $6 + 3 =$ _____

10. 
 $4 + 2 =$ _____

11. 
 $9 + 0 =$ _____

12. 
 $4 + 5 =$ _____

