



Chou dit : « si j'ajoute le nombre de jours des mois de septembre, octobre, novembre, j'obtiens un total de 91 jours. »

A ton tour: vérifie si Chou a raison.



Septembre

Lun	Mar	Mer	Jeu	Ven	Sab	Dim
1	2	3	4	5	6	7
8	9	10	11	12	13	14
15	16	17	18	19	20	21
22	23	24	25	26	27	28
29	30					



Octobre

Lun	Mar	Mer	Jeu	Ven	Sab	Dim
		1	2	3	4	5
6	7	8	9	10	11	12
13	14	15	16	17	18	19
20	21	22	23	24	25	26
27	28	29	30	31		



Novembre

Lun	Mar	Mer	Jeu	Ven	Sab	Dim
						1
					2	
3	4	5	6	7	8	9
10	11	12	13	14	15	16
17	18	19	20	21	22	23
24	25	26	27	28	29	30



Chou a dessiné une chenille, elle a 92 pattes.


A ton tour: dessine une chenille avec 92 pattes





Chou a 93 billes. Elle les trie. Elle en a 10 jaunes et toutes les autres sont vertes.

A ton tour: trouve combien Chou a de billes vertes.

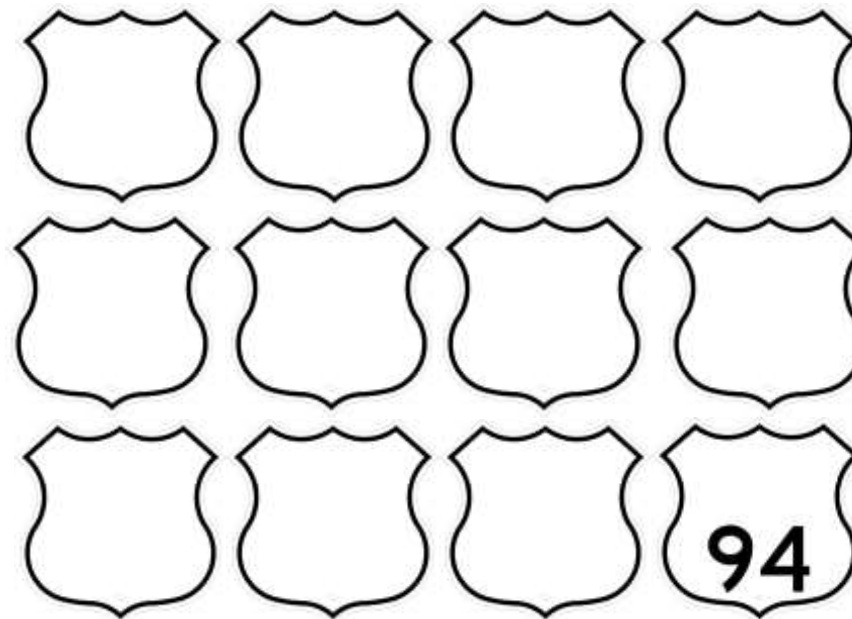


Chou a .....billes vertes.



Chou a apporté la belle collection d'écussons de son grand-père. Ils sont si vieux que certains nombres sont effacés.

A ton tour: écris les nombres effacés sur les écussons.





Chou a acheté des bonbons. Elle a dépensé 95 cents.

A ton tour: colorie 95 cents.



Chou aime bien le nombre 96 car si on le retourne il se lit encore 96.

Elle a dessiné un beau 96.

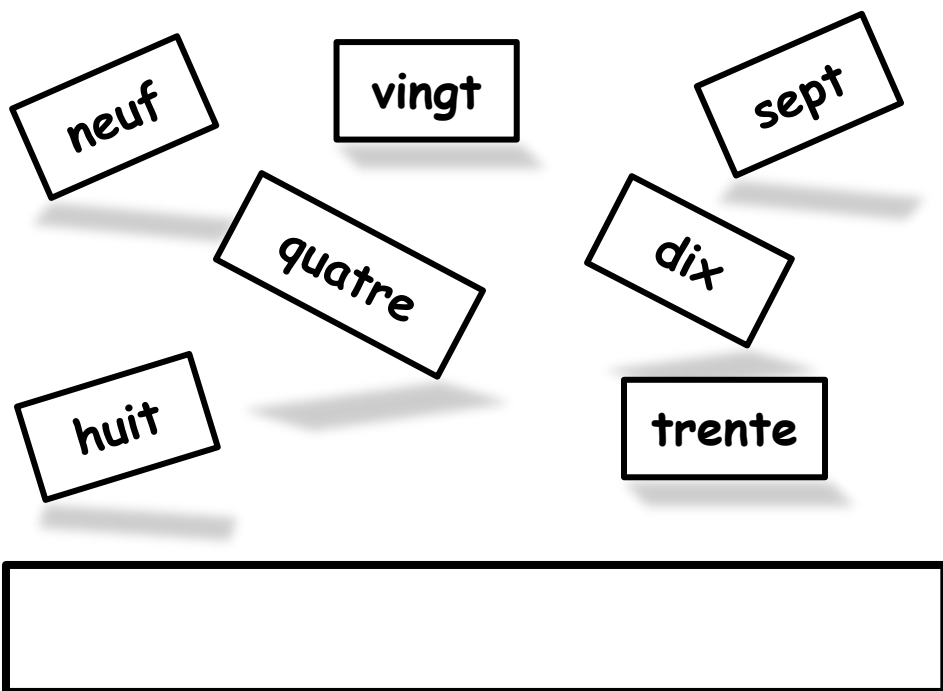
A ton tour: décore le 96 dessiné par Chou..





La maîtresse a fait tomber les étiquettes pour écrire le nombre 97.

**A ton tour:** colorie les étiquettes qui servent à écrire le nombre 97, puis écris ce nombre en lettre.



La grand-mère de Chou à 98 ans.

Sur le gâteau, on met une grosse bougie pour chaque dizaine d'années et une petite pour chaque année supplémentaire.

**A ton tour:** colorie les bougies à mettre sur le gâteau de la grand-mère de Chou.

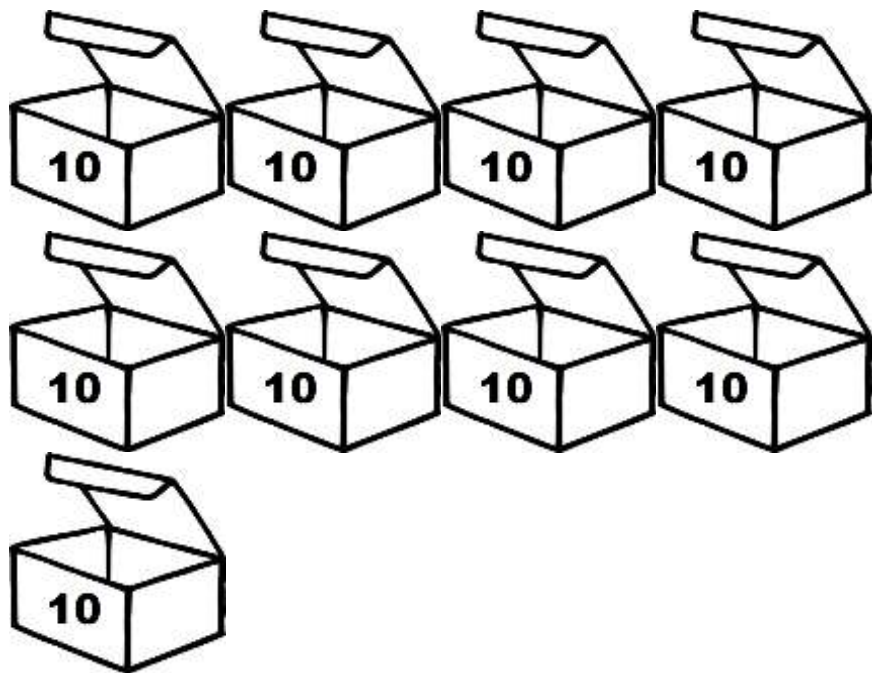




Chou et sa grand-mère  
ont fait 99 pots de  
confitures.

Elles ont rangé les  
pots dans des cartons.  
Il y a 10 pots dans  
chaque carton.

A ton tour: dessine les pots qui ne sont pas dans un carton.



Les élèves de la  
classe sont heureux.  
Ils font une grande  
fête.

A ton tour: colorie

