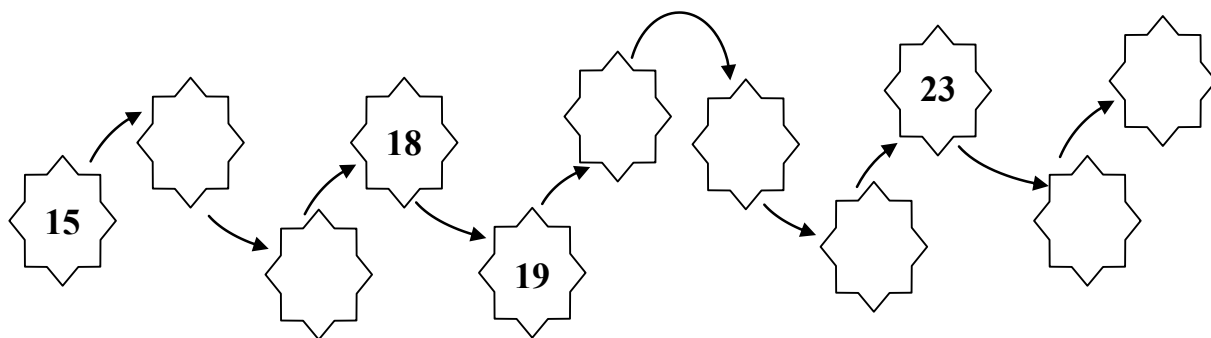


1. Complète.



2. Complète.

avant	NOMBRE	après
	15	
	21	
	25	
	20	
	18	

3. Ecris en chiffre.

	dix-huit
--	----------

	vingt-six
--	-----------

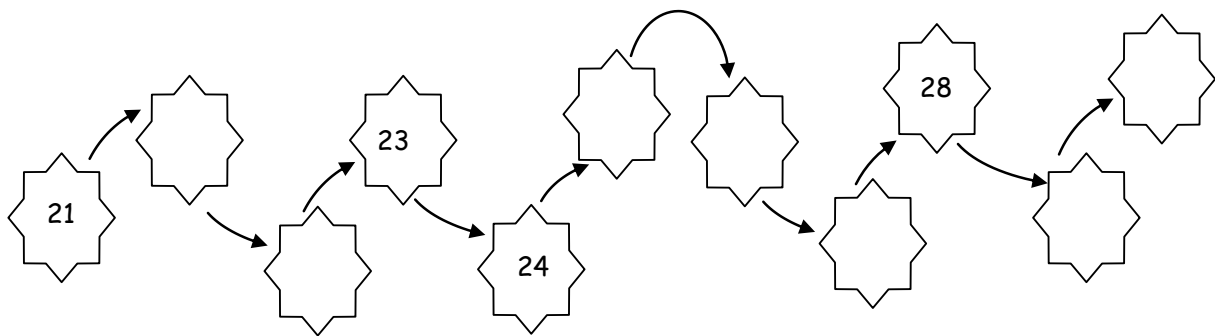
	seize
--	-------

	douze
--	-------

	vingt-deux
--	------------

	neuf
--	------

1. Complète.



2. Complète.

avant	NOMBRE	après
	22	
	25	
	31	
	29	
	26	

3. Ecris en chiffre.

	vingt-quatre
--	--------------

	vingt-sept
--	------------

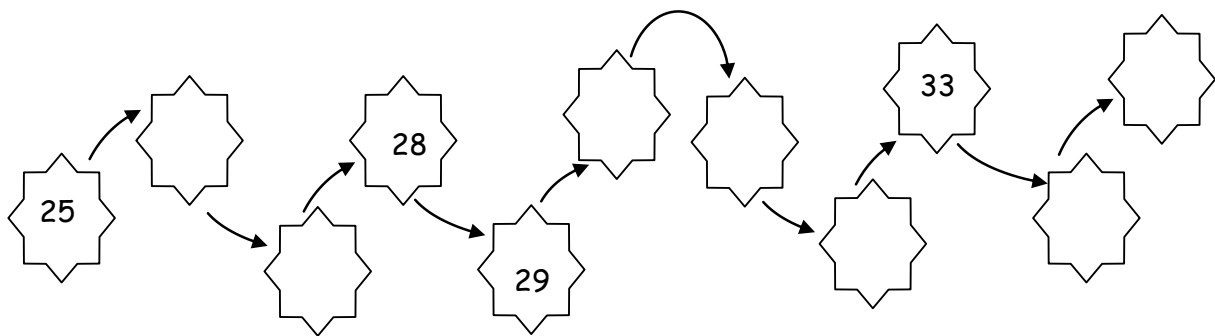
	dix-neuf
--	----------

	trente
--	--------

	vingt-trois
--	-------------

	trente-deux
--	-------------

1. Complète.



2. Complète.

avant	NOMBRE	après
	28	
	31	
	35	
	38	
	29	

3. Ecris en chiffre.

trente

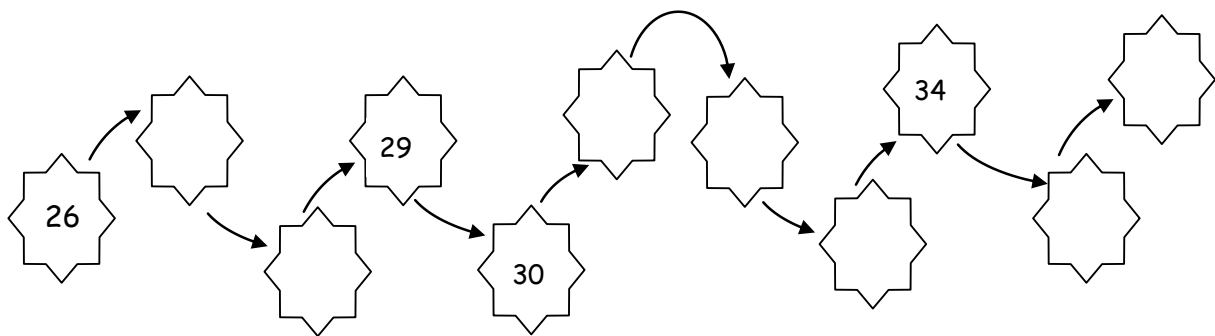
trente-huit

trente-cinq

trente-neuf

trente-deux

vingt-sept

1. Complète.2. Complète.

avant	NOMBRE	après
	29	
	31	
	36	
	39	
	33	

3. Ecris en chiffre.

	trente-trois
--	--------------

	vingt-neuf
--	------------

	trente et un
--	--------------

	trente
--	--------

	dix-sept
--	----------

	quarante
--	----------

1. Calcule.

$8 + 3 = \dots\dots\dots$

$4 + 4 = \dots\dots\dots$

$12 + 2 = \dots\dots\dots$

$14 + 5 = \dots\dots\dots$

$8 + 5 = \dots\dots\dots$

$15 + 4 = \dots\dots\dots$

$10 + 3 = \dots\dots\dots$

$10 + 5 = \dots\dots\dots$

$10 + 7 = \dots\dots\dots$

2. Complète.

avant	NOMBRE	après
	14	
	35	
	45	
	55	
	65	

3. Entoure dans chaque liste le nombre le plus petit.

44      34      24      42      40      14      20

47      49      19      39      28      46      40

31      13      43      34      14      35      45

1. Calcule.

$14 + 4 = \dots\dots\dots$

$16 + 5 = \dots\dots\dots$

$18 + 3 = \dots\dots\dots$

$19 + 3 = \dots\dots\dots$

$21 + 5 = \dots\dots\dots$

$27 + 1 = \dots\dots\dots$

$23 + 4 = \dots\dots\dots$

$22 + 5 = \dots\dots\dots$

$17 + 4 = \dots\dots\dots$

2. Complète.

avant	NOMBRE	après
	44	
	52	
	36	
	61	
	22	

3. Entoure dans chaque liste le nombre le plus petit.

32      22      12      23      42      24      14

55      15      25      35      65      21      33

27      72      71      21      17      12      87

1. Calcule.

$31 + 4 = \dots\dots\dots$

$24 + 8 = \dots\dots\dots$

$21 + 3 = \dots\dots\dots$

$51 + 3 = \dots\dots\dots$

$14 + 7 = \dots\dots\dots$

$22 + 5 = \dots\dots\dots$

$16 + 3 = \dots\dots\dots$

$19 + 3 = \dots\dots\dots$

$24 + 5 = \dots\dots\dots$

2. Complète.

avant	NOMBRE	après
18		
	24	
		53
	26	
22		

3. Entoure dans chaque liste le nombre le plus petit.

41      14      24      34      54      64      46

13      33      53      84      12      93      13

45      35      15      11      5      56      65

1. Calcule.

$41 + 3 = \dots\dots\dots$

$51 + 3 = \dots\dots\dots$

$42 + 6 = \dots\dots\dots$

$62 + 4 = \dots\dots\dots$

$52 + 8 = \dots\dots\dots$

$31 + 1 = \dots\dots\dots$

$53 + 3 = \dots\dots\dots$

$39 + 4 = \dots\dots\dots$

$29 + 4 = \dots\dots\dots$

2. Complète.

avant	NOMBRE	après
	31	
53		
		22
	37	
45		

3. Entoure dans chaque liste le nombre le plus petit.

8      5      1      0      9      3      6

28      25      21      20      29      23      26

31      13      53      54      52      51      61



1. Calcule.

$18 + 4 = \dots\dots\dots$

$19 + 5 = \dots\dots\dots$

$28 + 1 = \dots\dots\dots$

$41 + 5 = \dots\dots\dots$

$38 + 4 = \dots\dots\dots$

$31 + 4 = \dots\dots\dots$

$61 + 7 = \dots\dots\dots$

$35 + 7 = \dots\dots\dots$

$37 + 1 = \dots\dots\dots$

2. Complète.

avant	NOMBRE	après
	44	
32		
	51	
		62
	70	

3. Entoure dans chaque liste le nombre le plus petit.

23      32      12      42      52      62      72

35      72      92      71      27      18      59

41      14      54      46      49      10      55

1. Calcule.

$32 + 5 = \dots\dots\dots$

$81 + 4 = \dots\dots\dots$

$93 + 4 = \dots\dots\dots$

$65 + 3 = \dots\dots\dots$

$68 + 4 = \dots\dots\dots$

$28 + 9 = \dots\dots\dots$

$72 + 3 = \dots\dots\dots$

$52 + 5 = \dots\dots\dots$

$83 + 4 = \dots\dots\dots$

2. Complète.

avant	NOMBRE	après
31		
	64	
		72
	91	
	43	

3. Entoure dans chaque liste le nombre le plus petit.

41      82      14      11      58      28      19

71      95      27      59      0      34      17

91      83      47      95      17      57      38

1. Calcule.

$42 + 10 = \dots\dots\dots$

$81 + 10 = \dots\dots\dots$

$73 + 10 = \dots\dots\dots$

$48 + 10 = \dots\dots\dots$

$73 + 10 = \dots\dots\dots$

$37 + 10 = \dots\dots\dots$

$24 + 10 = \dots\dots\dots$

$52 + 10 = \dots\dots\dots$

$88 + 10 = \dots\dots\dots$

2. Complète.

avant	NOMBRE	après
	37	
	82	
		27
	19	
72		

3. Continue.

37 - 38 - ..... - ..... - ..... - ..... - ..... - ..... - ..... - ..... - ..... - .....

62 - 63 - ..... - ..... - ..... - ..... - ..... - ..... - ..... - ..... - ..... - .....

45 - 46 - ..... - ..... - ..... - ..... - ..... - ..... - ..... - ..... - ..... - .....





1. Calcule.

$32 + 5 = \dots\dots\dots$

$71 + 2 = \dots\dots\dots$

$84 + 2 = \dots\dots\dots$

$84 + 2 = \dots\dots\dots$

$95 + 2 = \dots\dots\dots$

$76 + 2 = \dots\dots\dots$

$52 + 2 = \dots\dots\dots$

$63 + 2 = \dots\dots\dots$

$74 + 2 = \dots\dots\dots$

2. Complète.

avant	NOMBRE	après
	74	
74		
		74
	77	
	78	

3. Continue.

68 - 69 - ..... - ..... - ..... - ..... - ..... - ..... - ..... - ..... - ..... - .....

46 - 47 - ..... - ..... - ..... - ..... - ..... - ..... - ..... - ..... - ..... - .....

81 - 82 - ..... - ..... - ..... - ..... - ..... - ..... - ..... - ..... - ..... - ..... - .....

