

Nom, prénom : .....

Fiche n°31

1

Identifie les fonctions grammaticales des mots ou groupes de mots de la phrase suivante :

Je m'évalue			
A	VA	NA	

Je bois le bouillon du pot-au-feu avant de manger les légumes.

2

Analyse les mots suivants (classe, genre, nombre et pour les verbes : infinitif, groupe, temps et personne)

Je m'évalue			
A	VA	NA	

bois :

légumes :

3

Conjugu le verbe « boire » à l'imparfait.

Je m'évalue			
A	VA	NA	

Handwriting practice lines for the conjugation exercise.

4

Ne colorie que les phrases simples.

Je m'évalue			
A	VA	NA	

Cette maison appartient à mon grand-oncle.
Il a gelé car il a fait très froid.
Dina rentrera chez elle tout à l'heure.
Cette maison appartient à mon grand-oncle.
Il a gelé car il a fait très froid.

5 Écris le résultat des opérations suivantes le plus rapidement possible :

Je m'évalue			
A	VA	NA	

$3 \times 7 = \dots$     $9 \times 8 = \dots$     $7 \times 5 = \dots$     $4 \times 6 = \dots$     $9 \times 9 = \dots$     $3 \times 5 = \dots$     $7 \times 7 = \dots$     $6 \times 8 = \dots$

6 Pose les opérations suivantes :  
 $7\ 815 \div 5$                        $1\ 197 \div 9$

Je m'évalue			
A	VA	NA	

7 Écris chaque phrase sous la forme d'un nombre décimal

Je m'évalue			
A	VA	NA	

32 mille, 4 centaines, 2 unités, 3 dixièmes et 5 centièmes :

.....

347 centaines, 5 unités, 8 millièmes :

.....

793 unités, 3 dixièmes, 9 millièmes :

.....

8 Décompose les nombres décimaux suivants, sous la forme

Je m'évalue			
A	VA	NA	

de l'addition de nombres entiers et de fractions :

32,04	
-------	--

56,70	
-------	--

904,69	
--------	--

40,009	
--------	--

Avant de rendre ma feuille, (coche la case une fois l'action accomplie)

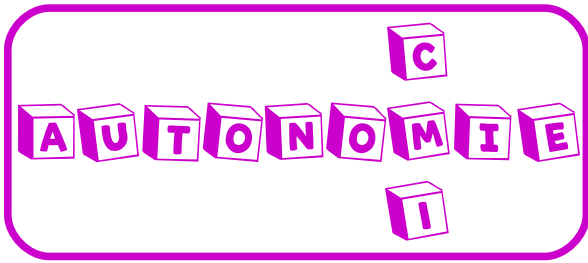


Je me relis

Je me corrige grâce à la correction

Je m'auto-évalue



Nom, prénom : .....

Fiche n°32

1 Identifie les fonctions grammaticales des mots ou groupes de mots de la phrase suivante :

Je m'évalue			
A	VA	NA	

Le beau temps revient.

2 Analyse les mots suivants (classe, genre, nombre et pour les verbes : infinitif, groupe, temps et personne)

Je m'évalue			
A	VA	NA	

beau :

revient :

3 Conjugue le verbe « revenir » au futur.

Je m'évalue			
A	VA	NA	

Handwriting practice lines for the conjugation exercise.

4 Complète avec ce ou se.

Je m'évalue			
A	VA	NA	

Nous vendons ..... vieux buffet.

Les sportifs ..... reposent après le match.

Il ..... demanda si ..... sabre datait du siècle dernier.

..... lézard ..... prélasse au soleil.

5 Écris le résultat des opérations suivantes le plus rapidement possible :

Je m'évalue			
A	VA	NA	

Périmètre d'un carré de 6 cm de côté : .....

Mesure du côté d'un carré dont le périmètre est de 40 cm : .....

Périmètre d'un rectangle de 37 cm de longueur et 23 cm de largeur : .....

6 Pose les opérations suivantes :

$235 + 697$     $235 + 9\ 031$

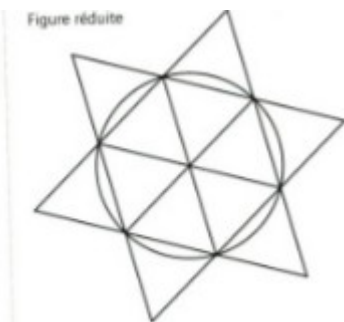
$203\ 475 - 198\ 968$

Je m'évalue			
A	VA	NA	



7 Reproduis la figure suivante sur une feuille blanche ou de brouillons. Pour la reproduire tu devras suivre le programme de construction. Une fois la figure terminée, donne-lui de jolies couleurs.

Je m'évalue			
A	VA	NA	



- Trace un cercle de centre O de 6 cm de diamètre.
- Place un point A sur le cercle et reporte cinq fois la mesure du rayon sur le cercle en notant les points B, C, C, E, F.
- Trace les triangles OAB, OBC, OCD, ODE, OEF, OFA.
- Trace les triangles équilatéraux ABG, BCH, CDI, DEJ, EFK, FAL.

Avant de rendre ma feuille, (coche la case une fois l'action accomplie)

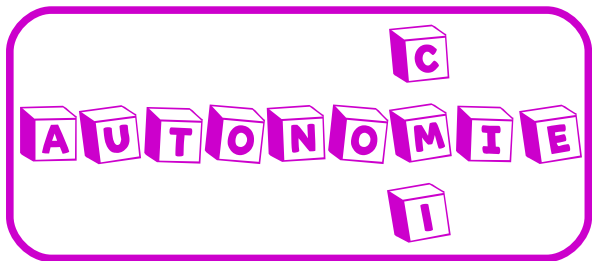


Je me relis

Je me corrige grâce à la correction

Je m'auto-évalue



Nom, prénom : .....

Fiche n°33

1 Identifie les fonctions grammaticales des mots ou groupes de mots de la phrase suivante :

Je m'évalue			
A	VA	NA	

*La chaleur insuffisante ne nous permet pas de nous baigner.*

2 Analyse les mots suivants (classe, genre, nombre et pour les verbes : infinitif, groupe, temps et personne)

Je m'évalue			
A	VA	NA	

chaleur :

permet :

3 Conjugue le verbe « permettre » au présent.

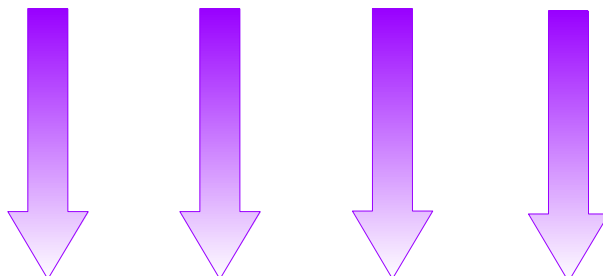
Je m'évalue			
A	VA	NA	

Handwriting practice lines for conjugating the verb 'permettre'.

4 Trouve le terme générique de chaque série de termes spécifiques.

Je m'évalue			
A	VA	NA	

truite	Asie	Jupe	Haricots
saumon	Europe	pantalon	betterave
carpe	Afrique	chemise	chou
requin	Amérique	pull	courgette



--	--	--	--

5 Écris le résultat des opérations suivantes le plus rapidement possible :

Je m'évalue			
A	VA	NA	

3 petites poules pondent chacune 1 œuf par jour. Combien d'œufs ont-elles pondus au bout de 3 semaines ?

Théo a 10 ans. Mathieu a le double de son âge. Quel âge aura Mathieu 2 ans plus tard ?

Une boîte d'1 kg de morceaux de sucre n°4 contient 168 morceaux. Combien y a-t-il de morceaux en tout, dans 3 boîtes ?

6 Pose les opérations suivantes :

$4\ 207 \div 7$

$56\ 190 \div 6$

Je m'évalue			
A	VA	NA	

7 Où est la France ? Colorie-la sur cette carte.



Je m'évalue			
A	VA	NA	

Avant de rendre ma feuille, (coche la case une fois l'action accomplie)

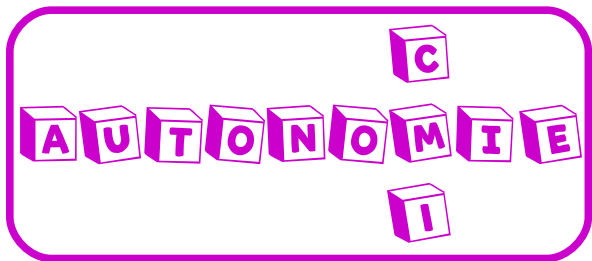


Je me relis

Je me corrige grâce à la correction

Je m'auto-évalue



Nom, prénom : .....

Fiche n°34

1 Identifie les fonctions grammaticales des mots ou groupes de mots de la phrase suivante :

Je m'évalue			
A	VA	NA	

*Nous adorons les cookies.*

2 Analyse les mots suivants (classe, genre, nombre et pour les verbes : infinitif, groupe, temps et personne)

Je m'évalue			
A	VA	NA	

adorons :

nous :

3 Conjugue le verbe « adorer » à l'imparfait.

Je m'évalue			
A	VA	NA	

4 Transforme ces couples de phrases comme dans l'exemple.

Je m'évalue			
A	VA	NA	

La bougie est allumée. La bougie éclaire faiblement la pièce.

La bougie **QUI** est allumée éclaire faiblement la pièce.

Le restaurant est sur la place de la mairie. Le restaurant est ouvert tous les jours.

La fillette saute à la corde. La fillette porte une robe à fleurs.

Nous devons marquer le but. Ce but nous donnera la victoire.

5 Écris le résultat des opérations suivantes le plus rapidement possible :

Je m'évalue			
A	VA	NA	

9x9= ... 8x8= ... 7x7= ... 6x6= ... 5x5= ... 4x4= ... 3x3= ... 2x2= ...

6 Pose les opérations suivantes :

Je m'évalue			
A	VA	NA	

66 897 x 64                      3 027 x 81

7 Range les nombres suivants dans l'ordre croissant.

Je m'évalue			
A	VA	NA	

78,765 – 78,76 – 78,756 – 78,65



.....

.....

.....

8 Relie les dessins de chaque pièce à leur nom en anglais

Je m'évalue			
A	VA	NA	



Bathroom                      Kitchen                      Bedroom

Avant de rendre ma feuille, (coche la case une fois l'action accomplie)



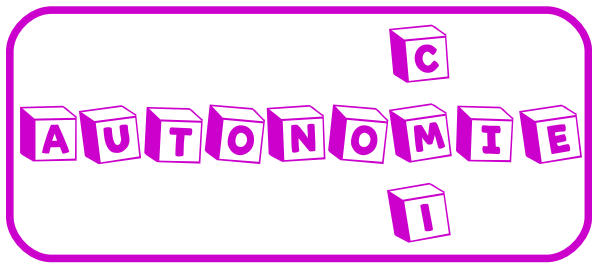
Je me relis

Je me corrige grâce à la correction

Je m'auto-évalue





Nom, prénom : .....

Fiche n°35

1

Identifie les fonctions grammaticales des mots ou groupes de mots de la phrase suivante :

Je m'évalue			
A	VA	NA	

Pourrais-tu compter le nombre de yaourts restants ?

2

Analyse les mots suivants (classe, genre, nombre et pour les verbes : infinitif, groupe, temps et personne)

Je m'évalue			
A	VA	NA	

yaourts :

restants :

3

Conjugué le verbe « pouvoir » au futur.

Je m'évalue			
A	VA	NA	

Handwriting practice lines (multiple sets of blue, green, and red lines).

4

Complète avec ces ou ses.

Je m'évalue			
A	VA	NA	

..... vêtements qui traînent dans le vestibule ne sont pas à moi mais à Jordan, il ne range jamais ..... habits, ni ..... livres. Maman pense qu'il exagère, un jour, elle prendra toutes ..... affaires, et les jettera par la fenêtre !

5 Écris le résultat des opérations suivantes le plus rapidement possible :

Je m'évalue			
A	VA	NA	

3kg de pommes coûtent 6€, combien coûtent 5kg ?

Je dors 8 heures, je vais à l'école pendant 6 heures, j'ai 1 heure de trajet en tout dans la journée. Je consacre 1h30 à mes repas et ma toilette. Combien de temps me reste-t-il pour jouer ?

6 Pose les opérations suivantes :

$2\ 223 \div 9$

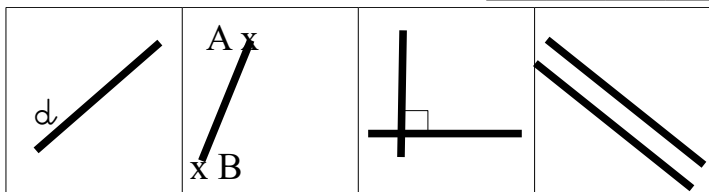
$62\ 949 \div 3$

Je m'évalue			
A	VA	NA	



7 Range les nombres suivants dans l'ordre croissant.

Je m'évalue			
A	VA	NA	

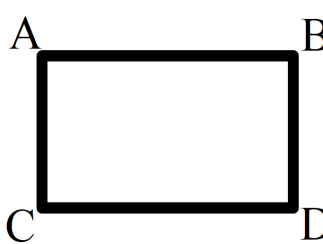


Segment	perpendiculaires	Droite	Parallèles
---------	------------------	--------	------------

	[AB]	(d)	⊥
--	------	-----	---

8 Complète après avoir observé la figure

Je m'évalue			
A	VA	NA	



Les segments sont parallèles et égaux deux à deux. Pour les segments parallèles, on peut

écrire : ... AB ... .. CD ...

Pour les segments égaux, on peut écrire :

... AC ... .. BD ...

Avant de rendre ma feuille, (coche la case une fois l'action accomplie)

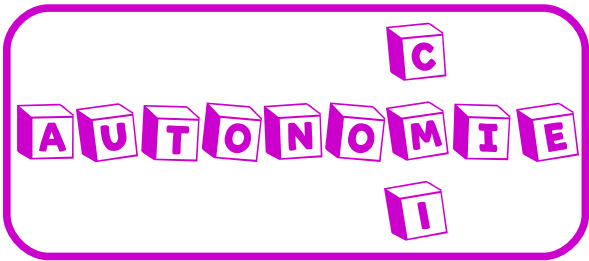


Je me relis

Je me corrige grâce à la correction

Je m'auto-évalue



Nom, prénom : .....

Fiche n°36

Les vacances sont arrivées !!! Voici quelques activités récréatives :

1 Colorie « la nuit étoilée » de Vincent Van Gogh :



2 Mandalas :



3 Colorie !

