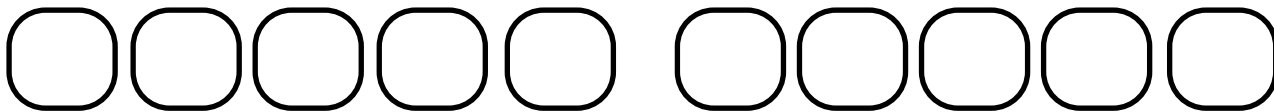




Ton prénom : \_\_\_\_\_

1. Calcul mental (calculs de sommes et de différences)



2. Dizaines et unités : échanges. (ajouter et soustraire des unités à un nombre <100)

Complète.

6 unités en plus



5 unités en moins



3 dizaines en plus



5 unités en plus



8 unités en moins



7 dizaines en moins




3. Addition : calcul posé. (poser une addition en colonne et la calculer)


Pose les additions et calcule.



54 + 43



39 + 46



24 + 18 + 37



4. Multiplication : approche par addition itérée. (utiliser le signe x)

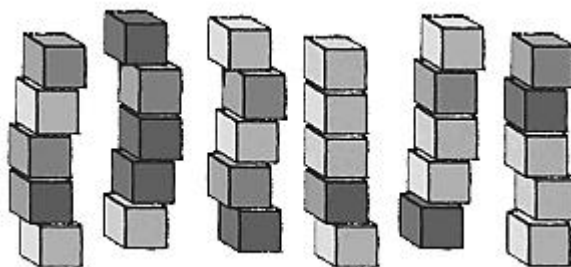
► Lisa a construit 3 tours avec des cubes. Pour chaque tour, elle utilise 8 cubes.

Combien a-t-elle utilisé de cubes pour construire ses 3 tours ?

Elle a utilisé ..... cubes.



► Ecris le nombre de cubes en utilisant le signe x




..... X ..... = .....

Il y a ..... cubes.

**5. L'alignement.** (utiliser la règle pour vérifier l'alignement de points.)

Trouve 3 points alignés et entoure-les.



Dessine deux autres points, les quatre points doivent être alignés.



**6. Dates et durées en jours et mois.** (utiliser un calendrier pour trouver des durées.)

AVRIL	MAI	JUIN
1 mercredi	1 vendredi	1 lundi
2 jeudi	2 samedi	2 mardi
3 vendredi	3 dimanche	3 mercredi
4 samedi	4 lundi	4 jeudi
5 dimanche	5 mardi	5 vendredi
6 lundi	6 mercredi	6 samedi
7 mardi	7 jeudi	7 dimanche
8 mercredi	8 vendredi	8 lundi
9 jeudi	9 samedi	9 mardi
10 vendredi	10 dimanche	10 mercredi
11 samedi	11 lundi	11 jeudi
12 dimanche	12 mardi	12 vendredi
13 lundi	13 mercredi	13 samedi
14 mardi	14 jeudi	14 dimanche
15 mercredi	15 vendredi	15 lundi
16 jeudi	16 samedi	16 mardi
17 vendredi	17 dimanche	17 mercredi
18 samedi	18 lundi	18 jeudi
19 dimanche	19 mardi	19 vendredi
20 lundi	20 mercredi	20 samedi
21 mardi	21 jeudi	21 dimanche
22 mercredi	22 vendredi	22 lundi
23 jeudi	23 samedi	23 mardi
24 vendredi	24 dimanche	24 mercredi
25 samedi	25 lundi	25 jeudi
26 dimanche	26 mardi	26 vendredi
27 lundi	27 mercredi	27 samedi
28 mardi	28 jeudi	28 dimanche
29 mercredi	29 vendredi	29 lundi
30 jeudi	30 samedi	30 mardi
	31 dimanche	

Vincent part avec son école, en classe découverte le matin du lundi 27 avril et il rentre le mercredi 6 mai le soir.

① Colorie en jaune les jours du mois d'avril et ceux du mois de mai pendant lesquels Vincent sera en classe de découverte.

② Compte le nombre de jours passés en classe verte et complète la phrase :

Vincent restera \_\_\_\_\_ jours en classe verte.

Manon va passer 8 jours entiers chez sa mamie. Elle arrivera chez elle le samedi 16 mai au soir.

③ Colorie en vert les jours que Manon passera chez sa mamie.

④ Quelle est la date de la fin de son séjour ?

Manon restera chez sa mamie jusqu'au :

\_\_\_\_\_