



Mathématiques

- Les nombres de 0 à 10 (premiers calculs)

date : _____

Leçon

- Voici les nombres de 0 à 10

0	zéro - zéro	
1	un - un	○
2	deux - deux	○ ○
3	trois - trois	○ ○ ○
4	quatre - quatre	○ ○ ○ ○
5	cinq - cinq	○ ○ ○ ○ ○
6	six - six	○ ○ ○ ○ ○ ○
7	sept - sept	○ ○ ○ ○ ○ ○ ○
8	huit - huit	○ ○ ○ ○ ○ ○ ○ ○
9	neuf - neuf	○ ○ ○ ○ ○ ○ ○ ○ ○
10	dix - dix	○ ○ ○ ○ ○ ○ ○ ○ ○ ○

- Le nombre permet de connaître une quantité. Il faut alors les compter.

Exemple : Combien vois-tu de cœurs ?



.....

1/ Ecris en chiffres le nombre d'objets dessinés.

◇ ◇ ◇ ◇ ◇			

2/ Dessine le nombre de croix demandé. Tu peux regarder la leçon pour t'aider.

neuf - neuf	trois - trois	six - six	zéro - zéro	un - un





3/ Complète ces additions

 +  =  	$1 + 1 = \dots$
  +  =   	$2 + 1 = \dots$
 +   =   	$1 + 2 = \dots$

4/ Complète la file numérique

1		3			6	7			10
---	--	---	--	--	---	---	--	--	----

5/ Relie chaque liste de points au chiffre qui correspond

	5
	8
	2
	4