



Jules Verne, le futur était son présent.

1. Observe le document suivant.



1. Quel est ce document ?

.....

2. Dans quelle ville est-il né ? En quelle année ?

.....

3. Quelle est sa nationalité ?

.....



Date : _____

Prénom : _____



Histoire

4. À quelle époque de l'histoire appartient-il ? À quel siècle ?

.....

5. Quel est son 2^{ème} prénom ?

.....

2. Observe ce second document.

Madame JULES VERNE ;
Monsieur et Madame MICHEL JULES-VERNE ;
Monsieur et Madame DE LA RUE DE PRANCY ; Monsieur et Madame GEORGES
LEFEBVRE ;
Messieurs MICHEL, GEORGES et JEAN JULES-VERNE ; Monsieur EMILE VILLALARD ;
Lieutenant au 3^e d'Artillerie et Madame EMILE VILLALARD ; Mesdemoiselles MARIE
et ANTOINETTE LEFEBVRE ;
Monsieur JEAN VILLALARD et Mademoiselle MARIE VILLALARD ;
Madame PAUL VERNE ; Madame DUCREST DE VILLENEUVE ; Madame VICTOR
FLEURY ; Monsieur et Madame LÉON GUILLON ; Madame AUGUSTE LELARGE ;
Messieurs GASTON et MAURICE VERNE ; Monsieur et Madame EMILE GARY de
Faviès et leurs Enfants ; Monsieur RAYMOND DUCREST DE VILLENEUVE, Capitaine
d'Artillerie, Madame RAYMOND DUCREST DE VILLENEUVE et leurs Enfants ; Monsieur
PAUL DUCREST DE VILLENEUVE, Lieutenant de Vaisseau, Madame PAUL DUCREST DE
VILLENEUVE et leurs Enfants ; Monsieur et Madame JOSEPH ALLARD et leurs Enfants ;
Monsieur ANDRÉ DUCREST DE VILLENEUVE ; Monsieur et Madame MAURICE DOUAULT
et leurs Enfants ; Monsieur et Madame RENÉ FLEURY et leurs Enfants ; Monsieur le
Général GEORGES ALLOTTE DE LA FUYE et ses Enfants ; Madame RENÉ GUILLON ;
Mademoiselle ANNA GUILLON ; Monsieur et Madame MAXIME GUILLON et leurs Enfants ;
Monsieur et Madame NORBERT GUILLON et leurs Enfants ; Monsieur CLAUDE GUILLON ;
Monsieur et Madame CHARLES BOURDON et leur Fils ;
Les Familles ALLOTTE DE LA FUYE, GARCET, AMAN, DÉZAUNAY, GUILLON,
LIBMAN et LIBEAUDILRE,
Ont l'honneur de vous faire part de la perte cruelle qu'ils viennent d'éprouver en la
personne de

JULES VERNE,
Officier de la Légion d'Honneur
LEUR MARI, PÈRE, BEAU-PÈRE, GRAND-PÈRE, ARRIÈRE-GRAND-PÈRE, FRÈRE ET BEAU-FRÈRE, ONCLE
ET GRAND-ONCLE, COUSIN-GERMAIN ET COUSIN,
Décédé le 24 Mars 1905, à l'âge de 77 ans,
Muni des Sacraments de l'Eglise.

Ils vous prient d'assister au Service qui aura lieu le Mardi 28 Mars, à 10 heures 1/2
très précises du matin, en l'Eglise Saint-Martin, sa paroisse,
Et ensuite à l'inhumation qui se fera au cimetière de la Madeleine.

De Profundis...

On se réunira à la maison mortuaire, Boulevard Longueville, 44, à Amiens

Amiens, le 25 Mars 1905. Imp. Fuert et Tellez.

Administration des Pompes funèbres. — A. BERTRAND Entrepreneur, 56, rue de Beauvais.

1. De quoi s'agit-il ?

.....

2. Indique 2 détails
graphiques qui le
montrent.

.....

3. Quelle est la date de
sa mort ?

.....

4. Quel âge avait-il ?

.....



Date : _____
Histoire

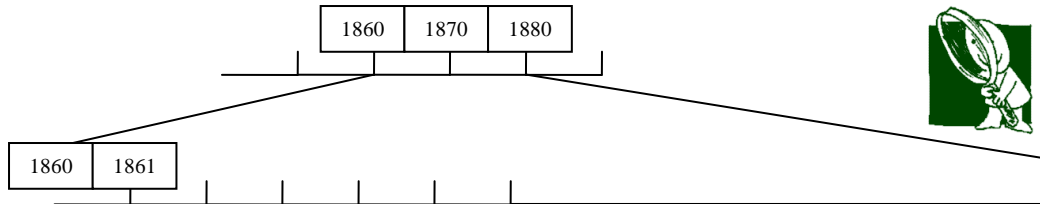
Prénom : _____



3. Utilise ton Tremplin pour réaliser les lignes du temps suivantes.

■ **première ligne du temps : Jules Verne**

consignes : Commence la ligne du temps à partir de l'année 1800
Termine-la en 1910
1 cm = 10 ans
utilise l'effet Loupe de 1860 à 1880 ce sera plus facile.



Découpe et place ces images et ces étiquettes sur ta ligne du temps.

mort de Jules Verne

naissance de Jules Verne

20 000 lieues sous les mers

voyage au centre de la terre

cinq semaines en ballon

le tour du monde en 80 jours

de la terre à la lune

1870

1863



1828

1864

1865

1905

1872





deuxième ligne du temps : la réalité.

Commence ta ligne du temps en 1960 et termine-la en 2005.

Choisis l'échelle qui te convient.


Relève les 5 événements réels dont on parle dans ton Tremplin et situe-les sur ta ligne du temps.
places -y aussi ces quelques photos.



Neil Armstrong



Bertrand Piccard et le ballon Breitling Orbiter3



Sonde sur Titan



le concorde

