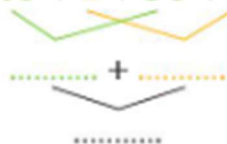


Nombres et calculs

1 Complète le calcul.

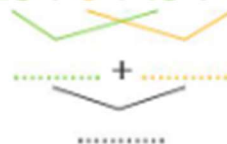
$$42 + 36 = 40 + 2 + 30 + 6$$



Effectuer une addition en ligne.


2 Complète le calcul.

$$28 + 14 = 20 + 8 + 10 + 4$$



Effectuer une addition en ligne avec franchissement de la dizaine.

3 La fermière a ramassé 18 œufs. Elle les range dans des boîtes de 6 œufs. Combien de boîtes peut-elle remplir ?



Complète. Elle peut remplir boîtes.

Résoudre un problème de groupements à l'aide d'un dessin.

4 Léa a 60 perles. Elle fabrique des bracelets de 10 perles. Combien de bracelets va-t-elle faire ?

60 perles = dizaines de perles

Léa va faire bracelets.

Lui restera-t-il des perles ? oui non

Résoudre un problème de groupements à l'aide de la numération.

5 Théo a 52 images, Boris en a 59. Qui a le plus d'images ? Combien en a-t-il de plus ?

C'est qui a le plus d'images.

Il a images de plus que



Résoudre un problème de comparaison additive.