

1. Calcul mental :  **Petits calculs**



2. Décompositions additives



 **Complète** ces additions.

$10 + 8 = \underline{\quad}$ $10 + 2 = \underline{\quad}$ $10 + \underline{\quad} = 14$
 $10 + 5 = \underline{\quad}$ $10 + 7 = \underline{\quad}$ $10 + \underline{\quad} = 16$
 $10 + 9 = \underline{\quad}$ $10 + 3 = \underline{\quad}$ $10 + \underline{\quad} = 11$


3. Les nombres ordinaux pour désigner un rang.




 **Colorie** la troisième tasse.




 **Colorie** la cinquième bouteille.



 **Entoure** la deuxième mouche.



 **Entoure** le premier lapin.



 **Dessine** une pomme sur la sixième assiette.



4.  Problème de déplacement sur la file numérique



Le pion est sur la case 10. Il tire le dé et doit avancer de 5.



Sur quel nombre arrive-t-il ?

→ Il arrive sur le nombre —

