


Mes.2 : Je sais mesurer un segment

Retenir

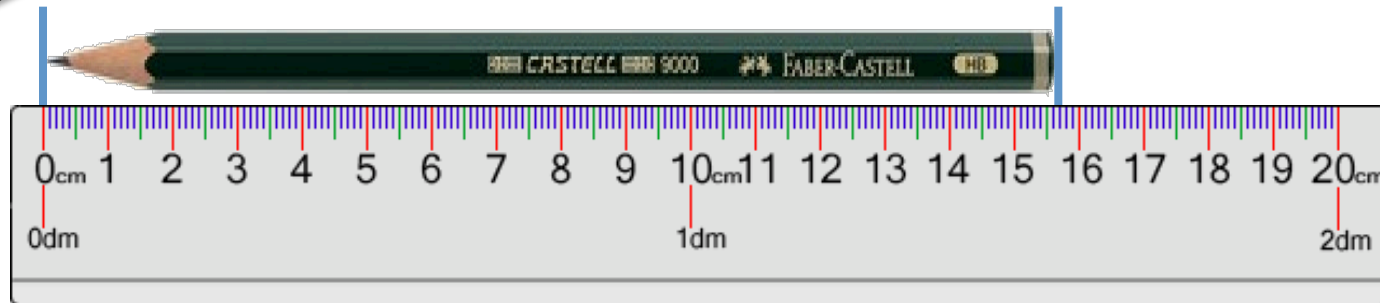



*Je mesure un objet en plaçant l'extrémité de cet objet sur le « 0 » de la règle puis je regarde sur quel nombre s'arrête l'autre extrémité.
Ce crayon mesure 15 cm.*

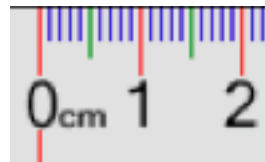


Mes.2 : Je sais mesurer un segment

Observer



Quand l'extrémité de l'objet ne tombe pas exactement sur un nombre, il va falloir compter les millimètres entre les deux nombres.
Ce crayon mesure 15 cm et 7 millimètres.




Mes.2 : Je sais mesurer un segment


S'exercer



Compléter :



AB = _____



CD = _____




EF = _____



GH = _____



IJ = _____



Mes.2 : Je sais mesurer un segment

S'exercer



Compléter :

AB = _____

BC = _____

CE = _____

BO = _____

DO = _____

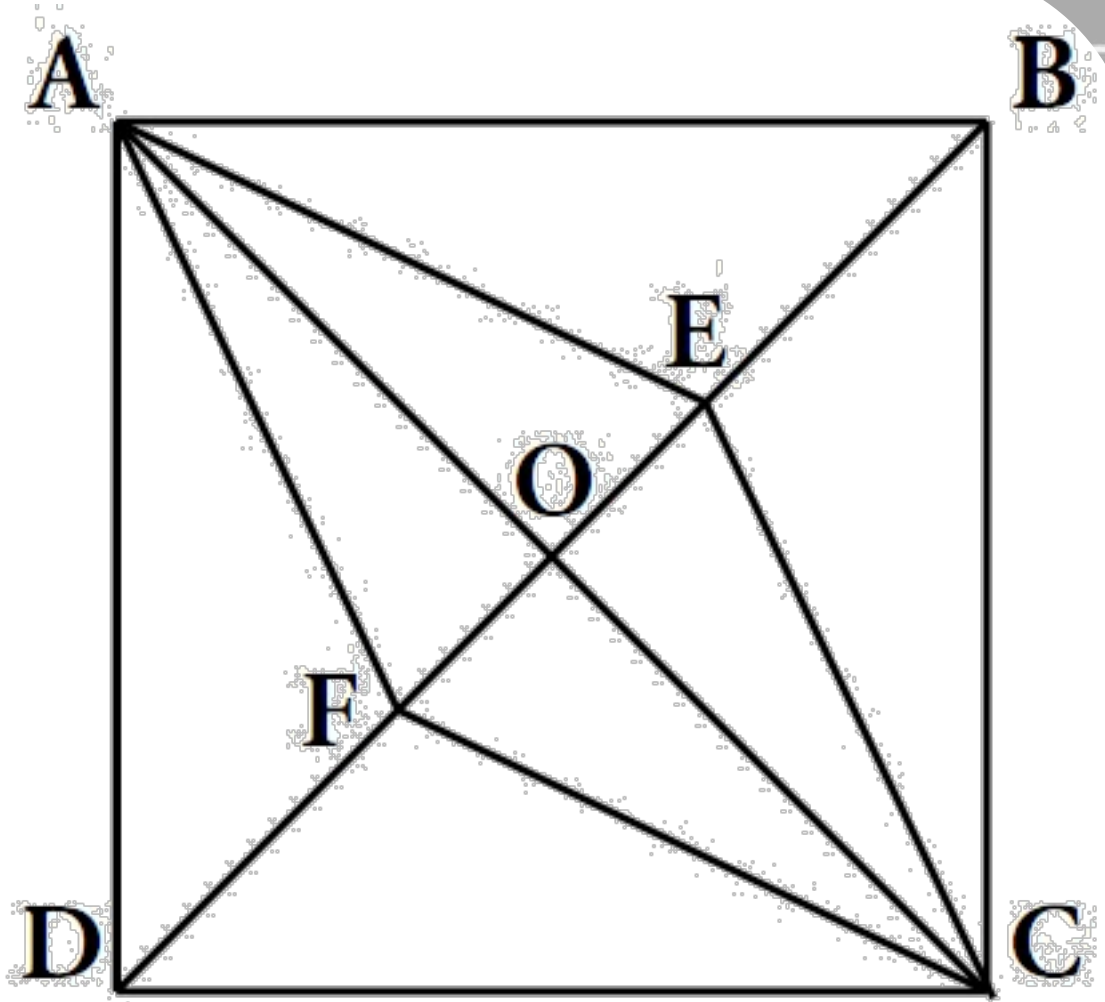
BD = _____

AO = _____


CO = _____

AF = _____

FC = _____



Mes.2 : Je sais mesurer un segment



S'évaluer

Compléter :

AB = _____

BC = _____

CE = _____

CD = _____

DE = _____

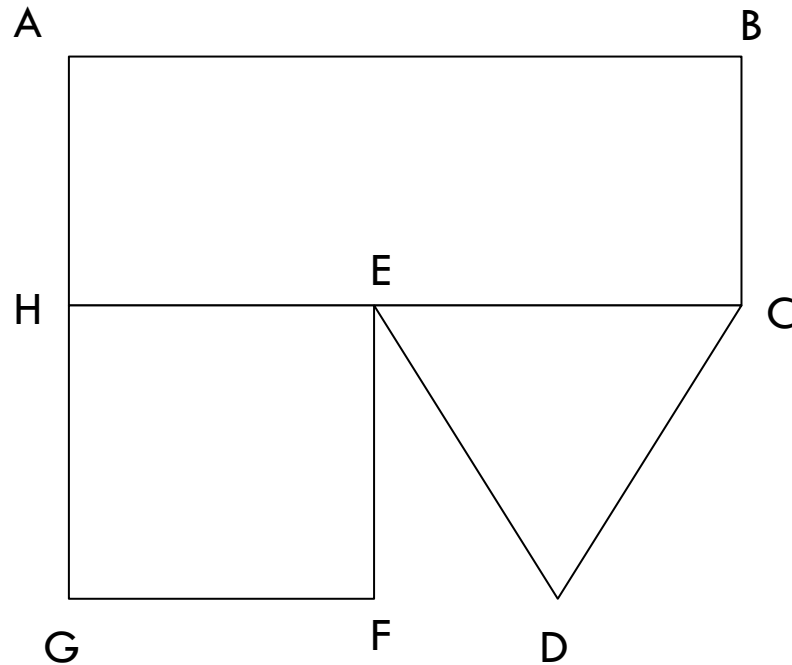
EF = _____

FG = _____

GH = _____

GA = _____

HE = _____



.... / 10