


CE1

1 Retrouve les chiffres pour connaître le poids (en kg) de chaque ours.



L'ours à lunettes

A **B** **C**



L'ours à collier

D **E** **F**

2	4	1	0
1	5	2	3
3	4	1	7
5	7	9	8

- A** Chiffre entre le 4 et le 0.
- B** Chiffre entre les deux 4.
- C** Chiffre sous le 0.
- D** Chiffre à gauche du 5.
- E** Chiffre à droite du 9.
- F** Chiffre au-dessus du 8.

2 Colorie les cases pour faire un tableau à la manière de Mondrian !

	A	B	C	D	E
1					
2					
3					
4					
5					

Rouge: (D; 3), (A; 5), (E; 4)

Jaune: (A; 1), (B; 1), (D; 2), (C; 4)

Bleu: (B; 2), (D; 5)

Noir: (E; 1), (E; 2), (A; 3), (B; 3), (B; 5)

CE1

3 Place les points sur le quadrillage puis relie-les dans l'ordre des étiquettes. N'oublie pas de fermer la figure.

(A ; 1)

(C ; 3)


(E ; 1)

(D ; 4)

(B ; 4)

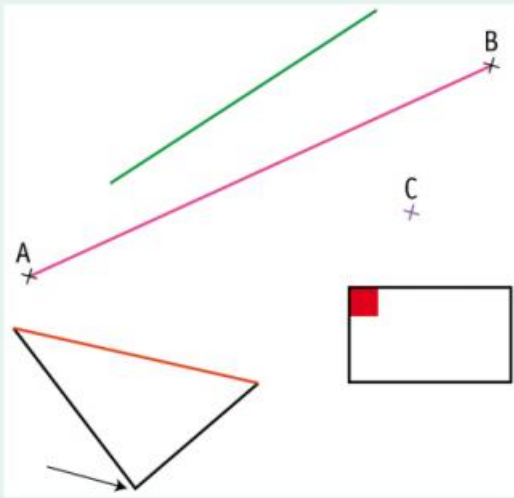
	A	B	C	D	E
1					
2					
3					
4					

4 Observe le déplacement du poisson et dessine son chemin.



CE1

5 Complète les phrases.



- a** Je suis indiqué par une flèche, je suis
- b** Je suis en vert, je suis
- c** Je suis en violet, je suis
- d** Je suis en rose, je suis
- e** Je suis en rouge, je suis
- f** Je suis en orange, je suis

6 Colorie en gris :

- les ronds qui sont alignés avec les ronds gris ;
- le triangle qui est aligné avec les triangles gris.

