



CHASSE AUX OEUFS A POUDLARD




<http://2maitressesalacampagne.eklablog.com>

Lundi : Numération.

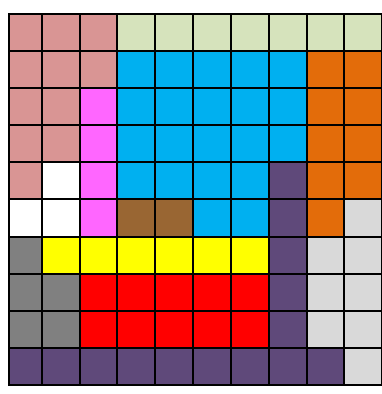
CALCUL MENTAL

Note les résultats du calcul sur la ligne lundi.

PROBLEME DE REFERENCE



Pour faire plaisir à Harry, Ron et Hermione, Hagrid a placé des œufs dans son jardin.

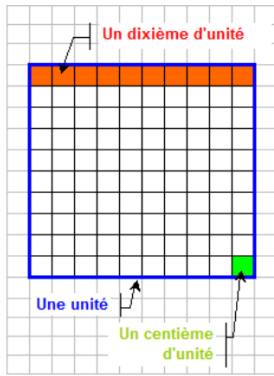


Mes amis voici quelques indices pour retrouver quels types d'œufs vous ramassez...

7/100 sont des œufs de Chaporouge, 11/100 sont des œufs de dragon, 10/100 sont des œufs de nifleur, 5/100 des œufs de demiguise, 3/100 des œufs de croup, 2/100 des œufs d'hypogriffe, 8/100 sont des œufs de sirène du lac, 4/100 sont des œufs de licorne, 21/100 sont des œufs d'araignée, 6/100 sont des œufs de serpent, 9/100 sont des œufs de focifère, et 14/100 sont des œufs de Botruc.

Retrouve la couleur de chaque type d'œuf.

ARDOISE MAGIQUE...



- $\frac{1}{10} = \frac{\square}{100}$
- Combien de lignes faut-il colorier
- pour faire $\frac{2}{10}$? \square
- Je déduis : $\frac{2}{10} = \frac{\square}{100}$
- $\frac{4}{10} = \frac{\square}{100}$
- $\frac{9}{10} = \frac{\square}{100}$
- $\frac{13}{10} = \frac{\square}{100}$

A VOS GRIMOIRES...

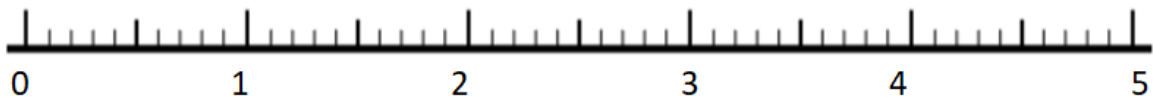
Exercice 1 : Place les fractions suivantes sur la droite graduée.

$$\frac{17}{10}$$

$$\frac{48}{10}$$

$$\frac{31}{10}$$

$$\frac{24}{10}$$



Exercice 2 : Complète les égalités.

$$\frac{7}{10} = \frac{\dots}{100} = \frac{\dots}{1000}$$

$$\frac{24}{10} = \frac{\dots}{100} = \frac{\dots}{1000}$$

$$\frac{40}{10} = \frac{\dots}{100} = \frac{\dots}{1000}$$

$$\frac{102}{10} = \frac{\dots}{100} = \frac{\dots}{1000}$$

$$\frac{180}{100} = \frac{\dots}{10} = \frac{\dots}{1000}$$

$$\frac{20}{100} = \frac{\dots}{10} = \frac{\dots}{1000}$$