

carte
mentale

Le sens de rotation de la Terre

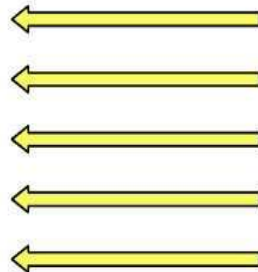
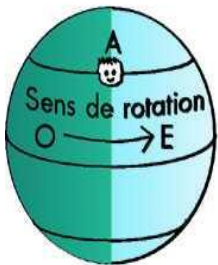
Le sens de rotation
de la Terre

La Terre tourne sur elle-même

Dans le sens inverse
des aiguilles d'une
montre vu du pôle
Nord

D'Ouest en Est

Elle fait un tour
complet en 24 heures.



Je sais ma
leçon si...

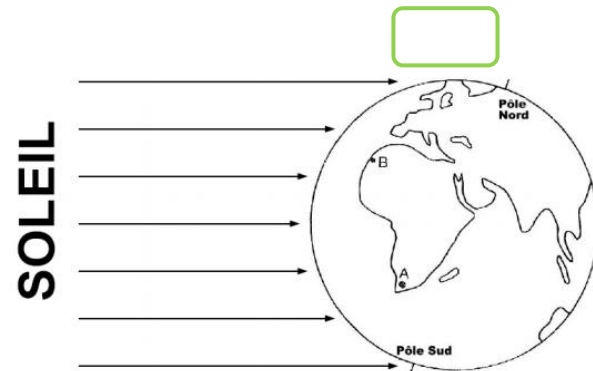
Le sens de rotation de la Terre

Idées principales

- * Je sais que la Terre tourne sur elle-même
- * Je sais que la Terre fait un tour complet en 24 heures.
- * Je sais que la Terre tourne dans le sens inverse des aiguilles d'une montre c'est-à-dire d'Ouest en Est.

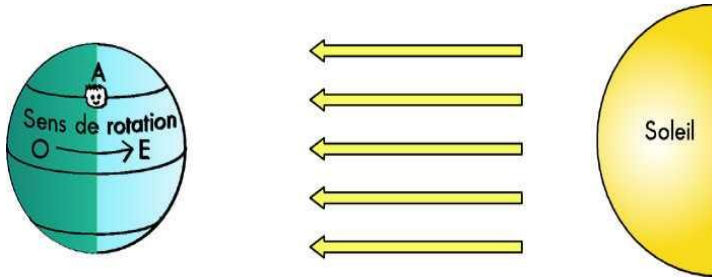
Modélisation:

- * Je sais mettre une flèche dans le bon sens pour indiquer le sens de rotation de la Terre sur elle-même.



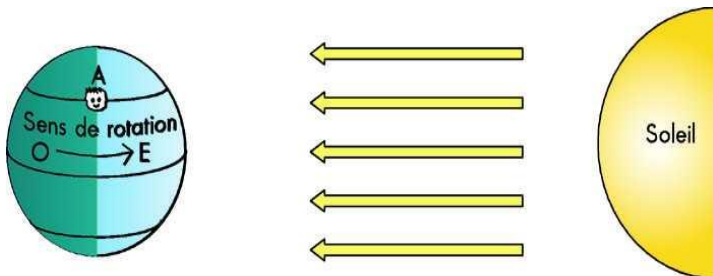
Lumières et ombres

La Terre tourne sur **elle même** dans **le sens inverse des aiguilles d'une montre** vu du pôle Nord, c'est-à-dire **d'Ouest en Est**. Elle fait un tour complet en **24h**.



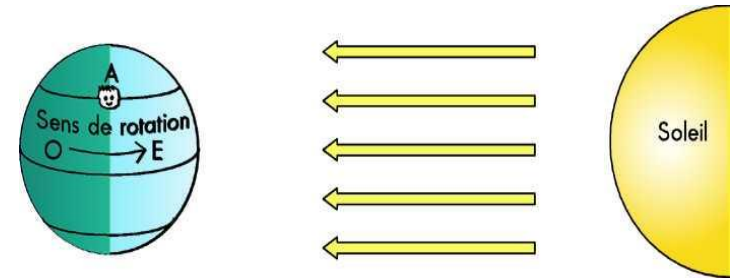
Lumières et ombres

La Terre tourne sur **elle même** dans **le sens inverse des aiguilles d'une montre** vu du pôle Nord, c'est-à-dire **d'Ouest en Est**. Elle fait un tour complet en **24h**.



Lumières et ombres

La Terre tourne sur _____ dans le sens _____ des aiguilles d'une montre vu du pôle Nord, c'est-à-dire _____ en _____. Elle fait un tour complet en _____.



Lumières et ombres

La Terre tourne sur _____ dans le sens _____ des aiguilles d'une montre vu du pôle Nord, c'est-à-dire _____ en _____. Elle fait un tour complet en _____.

