

Prénom: _____

Signature des parents

Mon programme: 

Bilan du plan de travail:

- Programme tenu
- Programme non tenu
- Programme dépassé

Commentaire: _____

ORTHOGRAPHE



Complète chaque mot:

un accro___ - un plat___ - un li___ - un sursau___ - un arrêté___ - un trico___ - un bor___ -

un Anglais___ - un accen___ - l'univer___

GRAMMAIRE



Complète les phrases suivantes avec un verbe à l'infinitif:

- J'aime _____ avant de m'endormir.
- Ma maitresse déteste _____ les élèves.
- Il est interdit de _____ dans le musée.
- Je préfère _____ de la musique que _____ mes devoirs.

GRAMMAIRE



Ecris une phrase en utilisant les mots suivants: les – airs. – trapéziste – vole – dans - Le

Ecris une phrase en utilisant les mots suivants: en – lion – le – saute- Le – cercle – feu. - dans

ORTHOGRAPHE



Barre l'intrus de chaque liste:

- bourse – source – soupe – bouse – soupir
- repassage – caresse – boisson – ourse – vaisselle
- insecte – bus – tissu – sucre
- réponse – statue – secousse – maïs
- salamandre – essai – écusson - écrevisse

VOCABULAIRE



Parmi ces mots, lesquels sont placés avant « radeau » dans le dictionnaire? (Entoure-les)
radiateur - rabattre - racine - radar - ballon - radical - quotient - rafale

Parmi ces mots, lesquels sont placés après « droit » dans le dictionnaire? (Entoure-les)
durée - eau - drap - douloureux - dromadaire - masque - azalée - donner - drame - duvet

VOCABULAIRE



Écris la définition des mots suivants:

pensif : _____

repeindre : _____

facteur : _____

amical : _____

GRAMMAIRE



Souligne le verbe, puis note son infinitif et son groupe:

• Nous partons à vélo. _____

• Je reçois mon correspondant. _____

• La maison domine la mer. _____

MESURE



Écris les nombres dans la même unité puis compare-les avec $<$, $>$ ou $=$.

9 dm 8 m

34 dm 4 m

457 mm 8 dm

45 cm 450 mm

MESURE



Écris les nombres dans la même unité puis compare-les avec $<$, $>$ ou $=$.

6 dm et 21 cm + 5 dm 680 mm

2 m et 456 mm 3 m

63 dm et 9 cm 6 m

673 mm 7 dm

NUMERATION



Écris les nombres en lettres

• 2 845 = _____


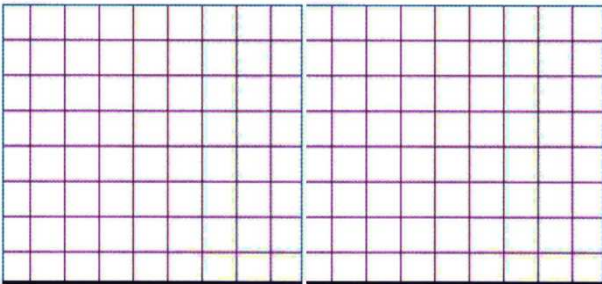
• 4 658 = _____

• 8 471 = _____

PROBLEME



Papi a 7 petits-enfants. Il offre à chacun un livre documentaire à 19 € et une BD à 18 €. Combien dépense-t-il pour faire ces cadeaux?




CALCUL

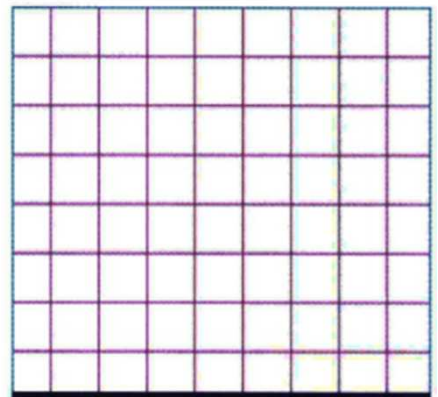


Pose les opérations en colonnes, puis calcule-les:

$638 + 249$



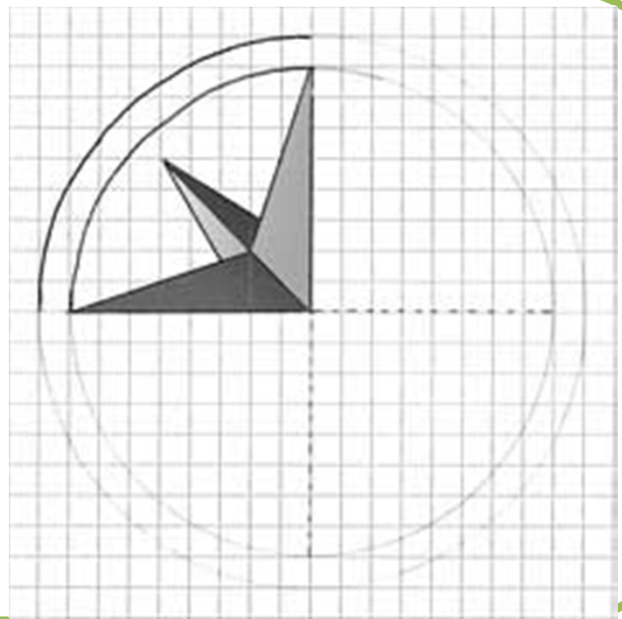
$159 + 348 + 277$



GEOMETRIE



Complète cette figure de façon symétrique:



LECTURE



Tu peux prendre un livre dans le carton.