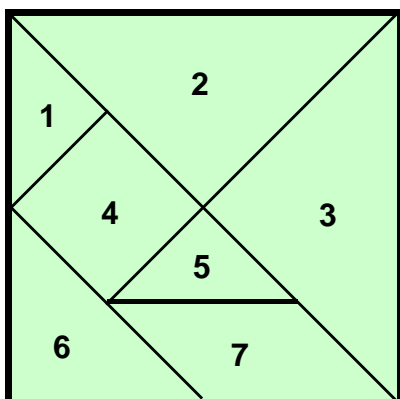


LES POLYGONES

1) Observe bien le tangram et réponds aux questions.



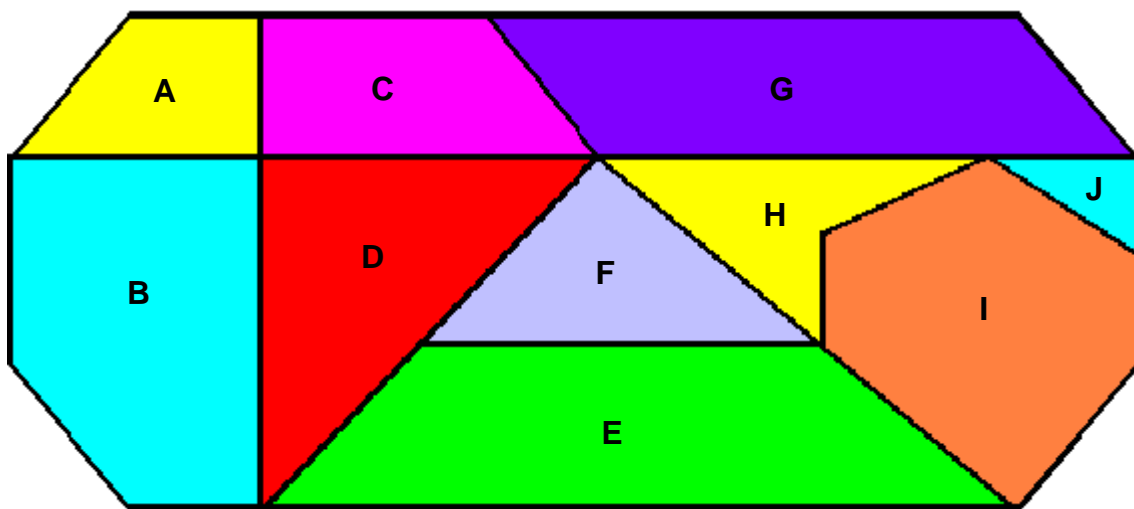
Écris les numéros des figures qui ont trois côtés :

.....

Écris les numéros des figures qui ont quatre côtés :

.....

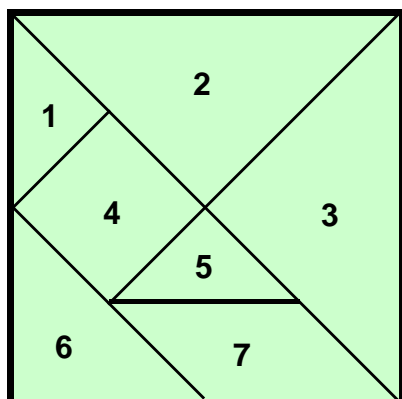
2) Cette figure est composée de plusieurs polygones. Observe-la bien et complète le tableau.



Nom de la figure	Lettre	Nom de la figure	Lettre
triangle		pentagone	
quadrilatère		hexagone	

LES POLYGONES
SOLUTION

1) Observe bien le tangram et réponds aux questions.



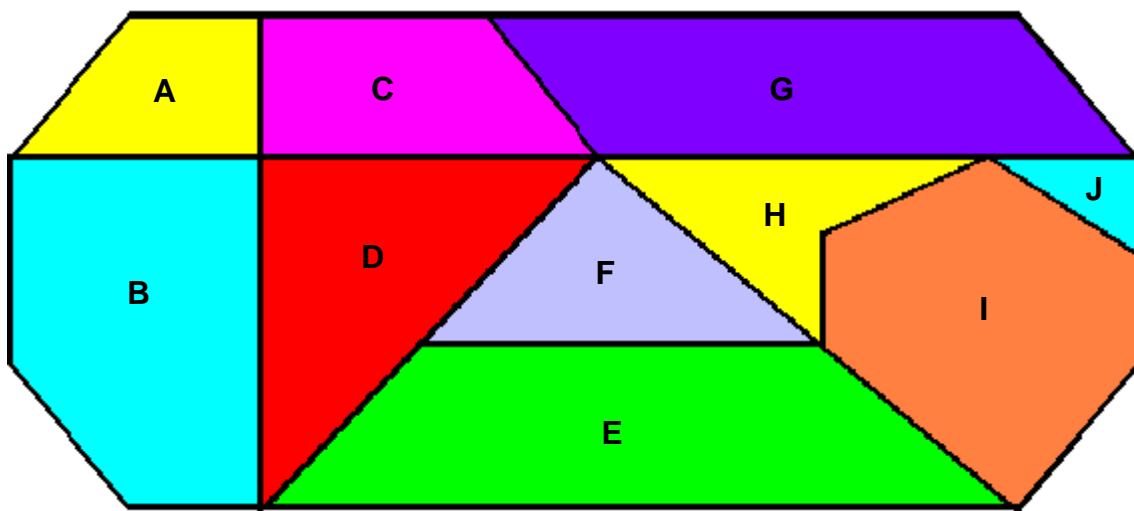
Écris les numéros des figures qui ont trois côtés :

1, 2, 3, 5 et 6

Écris les numéros des figures qui ont quatre côtés :

4 et 7

2) Cette figure est composée de plusieurs polygones. Observe-la bien et complète le tableau.



Nom de la figure	Lettre	Nom de la figure	Lettre
triangle	D, F et J	pentagone	B
quadrilatère	A, C, E, G et H	hexagone	I