

# Plan de travail n 1 ce2

Prénom : .....

Mon programme :

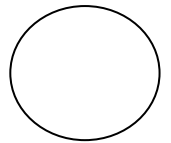
F R A N Ç A I S	conjugaison	<input type="checkbox"/>	Conjuguer les verbes du 1er et 2ème gr au futur.	
		<input type="checkbox"/>	Réécrire une phrase au futur.	
	grammaire	<input type="checkbox"/>	Retrouver le verbe et le GS dans une phrase.	
		<input type="checkbox"/>		
m a t h	orthographe	<input type="checkbox"/>	Je connais le féminin des noms.	
		<input type="checkbox"/>		
	vocabulaire	<input type="checkbox"/>	Je passe du verbe au nom.	
	numération	<input type="checkbox"/>	Les nombres à 6 chiffres	
	opérations	<input type="checkbox"/>	Les trois T.O.	
		<input type="checkbox"/>		

Bilan du plan de travail

Signature des parents :

- Programme tenu  
 Programme non tenu  
 Programme dépassé

Commentaires : \_\_\_\_\_



M A T H S	problèmes	<input type="checkbox"/>	Je recherche les informations utiles.	
		<input type="checkbox"/>	Je résous le problème.	
	Géométrie/ mesures	<input type="checkbox"/>	Je lis l'heure	
		<input type="checkbox"/>		

## Grammaire



**Souligne le verbe en rouge et le groupe sujet en bleu. Indique sous le Groupe Sujet s'il est au singulier et au pluriel.**

A cette époque, les chevaliers revêtaient une armure.

## Numération



**Ecris en chiffres :**

Deux-cent-huit-mille-cent-quarante-huit → .....

Quatre-vingt-dix-huit-mille-neuf-cent-quatre → .....


Neuf-cent-quatre-mille-quarante-six → .....

**Ecris en lettres : 651 255** → .....

.....



# Mesures



Quelle heure indique la pendule ? .....

Colorie en rose la partie parcourue par la grande aiguille si 30 minutes s'écoulent.

# Conjugaison



Réécris cette phrase au futur simple.

Pendant que je suis sous la douche, Papa chante une berceuse à mon petit frère.


# Problèmes


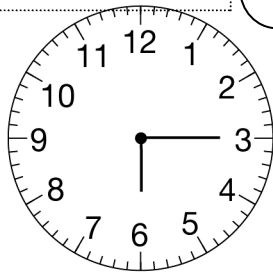



Dans le magasin de meubles situé à 4 km du centre-ville, il y a 25 tables, 12 armoires et 250 chaises. Une table coûte 150 €, une armoire 235 € et une chaise 14 €. Lorsque Pierre s'y rend à 14 h, le jeudi 23 janvier, il veut acheter 3 chaises. Il a 100 €.

Combien de chaises Pierre veut-il acheter ? .....

Combien va-t-il payer ses chaises ? .....

# Mesures



Indique sous chaque pendule l'heure indiquée le matin et l'après midi.

# Opérations



Pose et effectue :

$5\ 214 + 539 + 2\ 058 =$

$8\ 791 - 2\ 535 =$

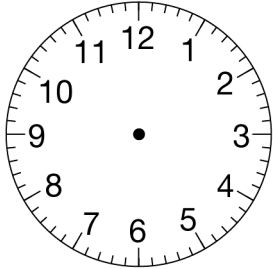
$6\ 509 \times 67 =$

# Vocabulaire

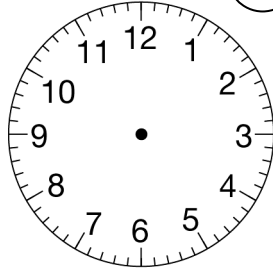


Fais l'exercice n°2 page 134 dans le livre à portée de mots sur ta feuille

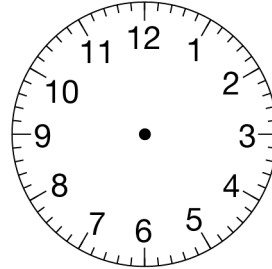
# Mesures



13 h 10



18 h 40



23 h 25

Dessine l'aiguille des heures en rouge et celle des minutes en bleu sur ces pendules

# Orthographe



Écris VRAI ou FAUX en face de chaque affirmation. Tu peux utiliser ton dictionnaire.

Le féminin de rein est reine. \_\_\_\_\_ Le masculin de merlette est merle. \_\_\_\_\_

Le féminin de cheval est jument. \_\_\_\_\_ Le masculin de louve est loup. \_\_\_\_\_

Le féminin de loup est loupe. \_\_\_\_\_ Le masculin de femme est garçon. \_\_\_\_\_

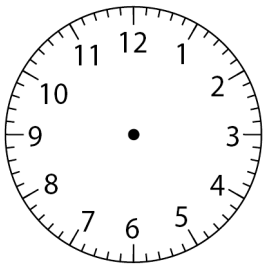
Le féminin de tas est tasse. \_\_\_\_\_ Le masculin de selle est sel. \_\_\_\_\_

# Grammaire

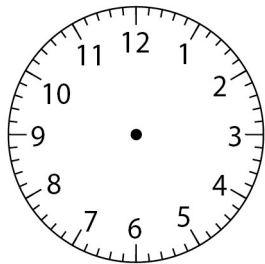


Fais l'exercice n° 14 page 23 dans le livre à portée de mots sur ta feuille.

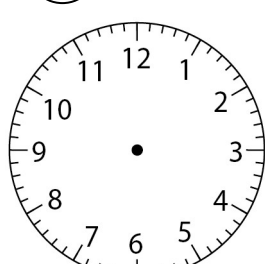
# mesures



6 h moins le quart



3 h moins 10



9 h moins 25

Dessine les aiguilles de ces pendules (l'aiguille des heures en rouge)