

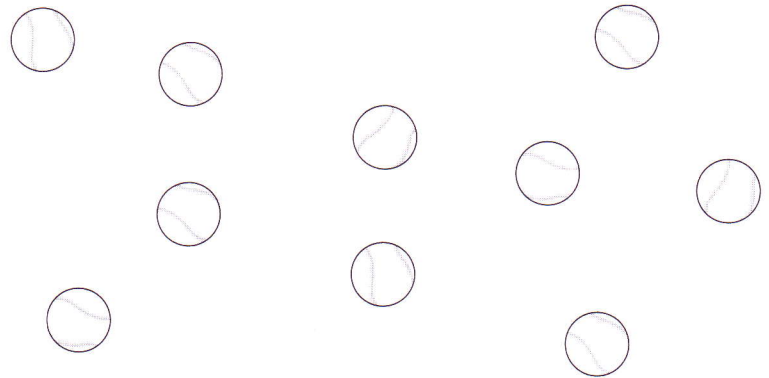

Compétence : Résoudre des problèmes de division partition.

Prénom .....

Date .....

1 Ces deux enfants se partagent équitablement ces balles.

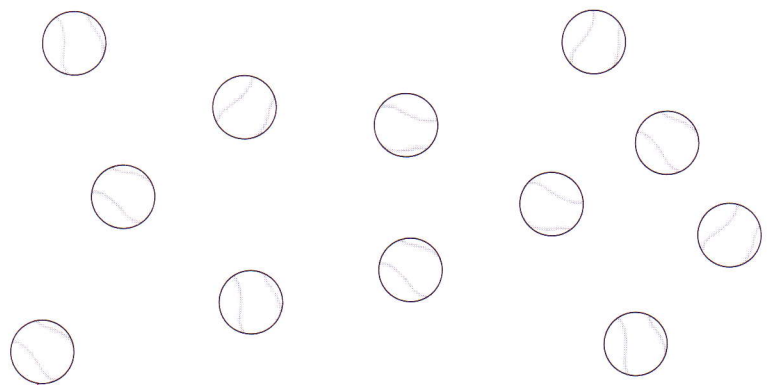
 **Colorie** d'une couleur différente les balles de chacun.



Chacun aura ..... balles.

2 Ces quatre enfants se partagent équitablement ces balles.

 **Colorie** d'une couleur différente les balles de chacun.




Chacun aura ..... balles.

Compétence : Résoudre des problèmes de comparaison additive.

Prénom ..... Date .....

1 Voici trois paires de patins à roulettes.



45 €




42 €




54 €

Aide-toi du problème de référence 7.




Entoure en bleu la paire la plus chère.  
 Entoure en vert la paire la moins chère.

2 Écris ce que possède chaque enfant.





..... €



..... €

Entoure l'enfant qui possède le plus d'argent.

3 Combien possède Julia ?



Julia possède ..... €.

Théo possède 5 € de plus que Julia. Combien possède-t-il ?

Théo possède ..... €.

