

Bilan terminal



Mathématiques



Période 3

Prénom : \_\_\_\_\_

**1**

Calcul mental : Dictée de nombres



**2**

Ecris le résultat des additions

$2 + 7 = \dots\dots\dots$	$8 + 5 = \dots\dots\dots$
$7 + 3 = \dots\dots\dots$	$2 + 6 = \dots\dots\dots$
$5 + 7 = \dots\dots\dots$	$6 + 5 = \dots\dots\dots$
$4 + 3 = \dots\dots\dots$	$4 + 4 = \dots\dots\dots$

**3**

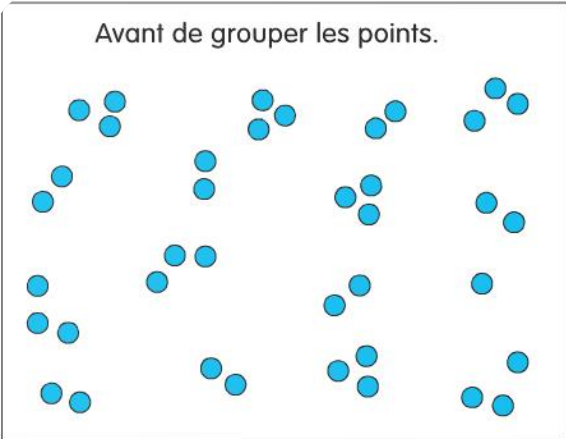
Ecris le résultat des soustractions

$10 - 3 = \dots\dots\dots$	$7 - 7 = \dots\dots\dots$
$8 - 2 = \dots\dots\dots$	$10 - 9 = \dots\dots\dots$
$5 - 0 = \dots\dots\dots$	$9 - 3 = \dots\dots\dots$
$6 - 4 = \dots\dots\dots$	$7 - 6 = \dots\dots\dots$


**4**

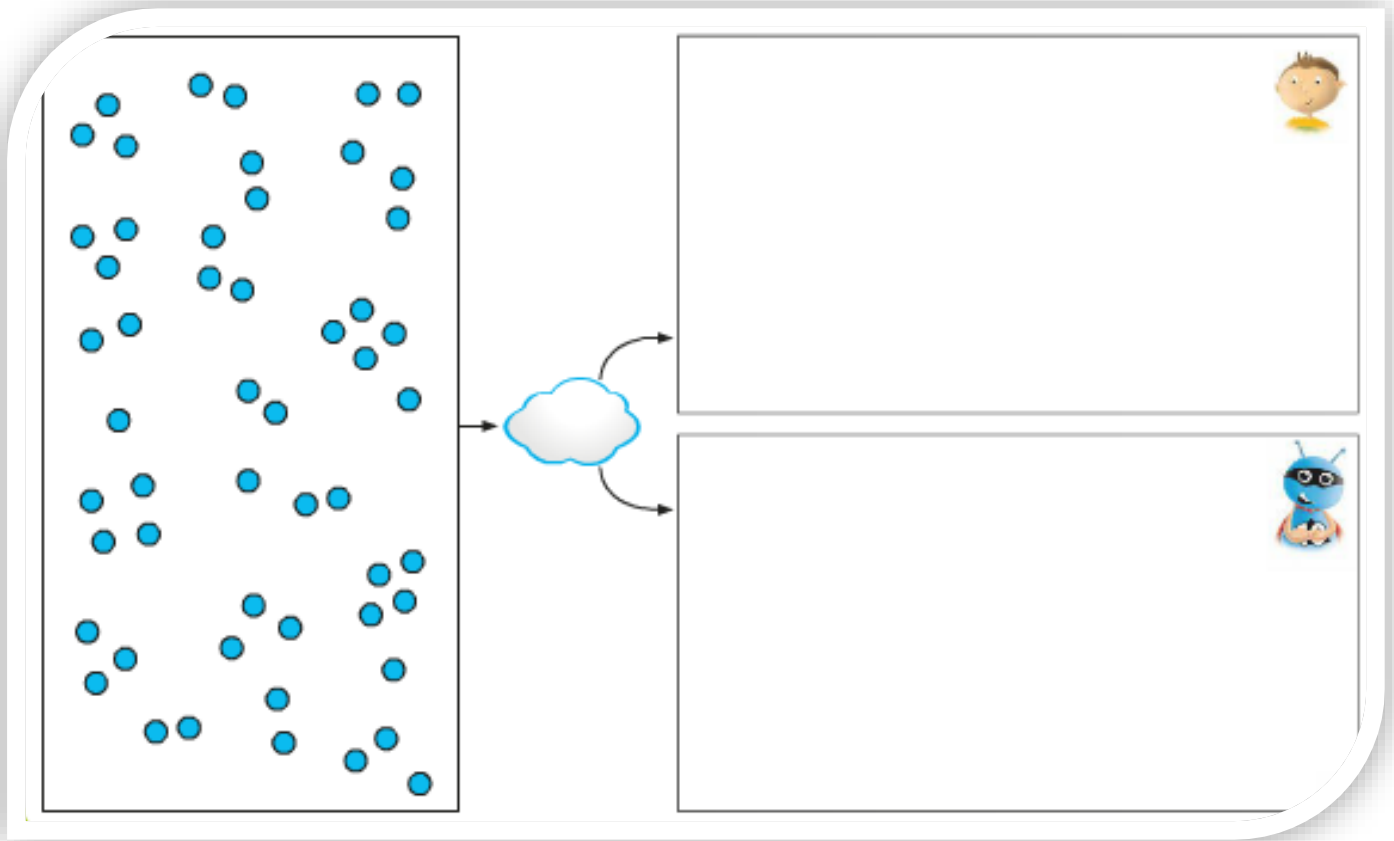
Grouper par 10 et en déduire une quantité

Avant de grouper les points.




Après.



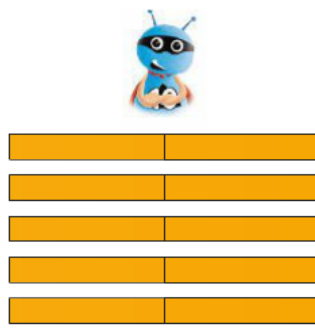


**5**

Dénombrer des quantités (sans compter un à un) et comparer des quantités



Dédé a ..... jetons.



Picbille a ..... jetons.

**Entoure ou barre.**

- C'est Dédé.
- C'est Picbille.
- Ils ont autant de jetons l'un que l'autre.

**6**

Dénombrer sans compter un à un

**Complète** les nuages.

