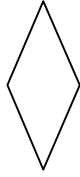



Prends ton porte-documents pages 10, 11, 12 et remplis la case à côté de chaque figure.

Nom :
 Nombre de côtés :
 Nombre de sommets :
 Nombre d'angles droits :



Nom :
 Nombre de côtés :
 Nombre de sommets :
 Nombre d'angles droits :



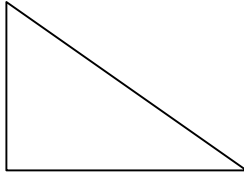
Nom :
 Nombre de côtés :
 Nombre de sommets :
 Nombre d'angles droits :



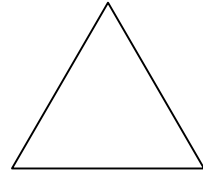
Nom :
 Nombre de côtés :
 Nombre de sommets :
 Nombre d'angles droits :



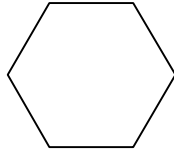
Nom :
 Nombre de côtés :
 Nombre de sommets :
 Nombre d'angles droits :



Nom :
 Nombre de côtés :
 Nombre de sommets :
 Nombre d'angles droits :



Nom :
 Nombre de côtés :
 Nombre de sommets :
 Nombre d'angles droits :



Nom :
 Nombre de côtés :
 Nombre de sommets :
 Nombre d'angles droits :



Cherche le nom de ces polygones et leur périmètre.

