

Bilan terminal



Mathématiques



Période 5

Prénom : _____

1. Ecris les nombres dictés par la maitresse.

□	□	□	□	□	□	□	□
---	---	---	---	---	---	---	---

2. Dessine les boites et les jetons pour les nombres suivants.

56	37	84

3. Calcule.

$9 + 4 = \dots\dots\dots$

$7 + 5 = \dots\dots\dots$

$8 + 3 = \dots\dots\dots$

$8 + 8 = \dots\dots\dots$

4. Calcule.

$12 - 3 = \dots\dots\dots$

$11 - 7 = \dots\dots\dots$

$14 - 6 = \dots\dots\dots$

$12 - 9 = \dots\dots\dots$

5. Imagine les dizaines et les unités (tu peux utiliser ton sous-main)

$21 + 45 = \dots\dots\dots$

$25 + 36 = \dots\dots\dots$

$37 + 13 = \dots\dots\dots$

$47 + 50 = \dots\dots\dots$

6. Réalise les groupes demandés.

Dessine 3 paquets de 5 gâteaux.

Dessine 5 paquets de 10 bonbons.

En tout, il y a _____
gâteaux.

En tout, il y a _____
bonbons.

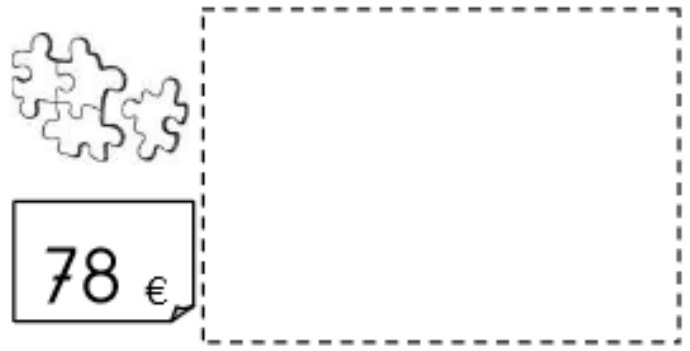
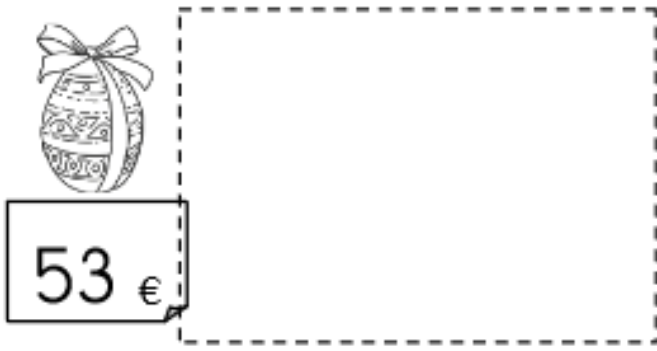
Dessine 6 paquets de 2 jetons

Dessine 8 paquets de 10 cerises.

En tout, il y a _____
jetons.

En tout, il y a _____
cerises.

7. Constitue la somme avec des pièces et des billets.



8. Pose et calcule les additions.

Pose cette addition : $34 + 25 + 4$

Dizaines	Unités

Pose cette addition : $45 + 51 + 12$

Dizaines	Unités

Pose cette addition : $2 + 18 + 36$

Dizaines	Unités

Pose cette addition : $23 + 45 + 19$

Dizaines	Unités

9. Mesure avec ta règle.

Ce trait mesure -----


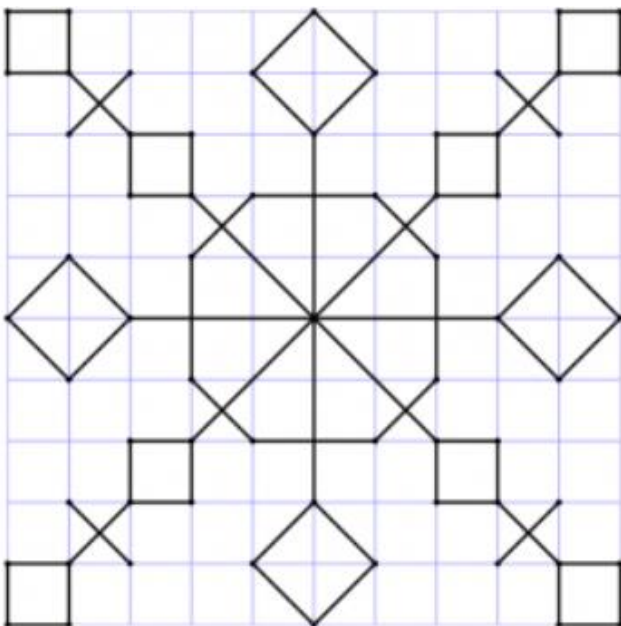
Ce trait mesure -----

Ce trait mesure -----

Ce trait mesure -----

Ce trait mesure -----

10. Reproduis la figure..



11. Trace les rayons du soleil en utilisant ta règle.

