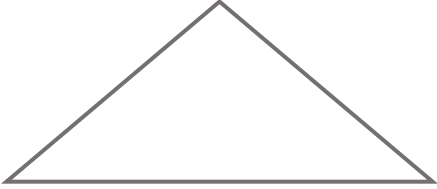
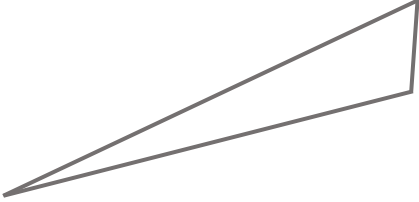
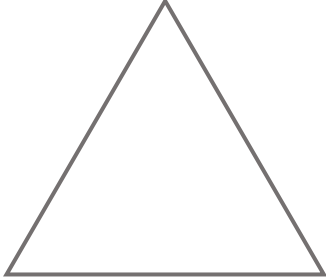
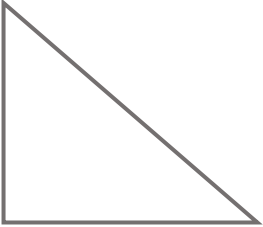


## Exercice :

Cherche avec ton matériel de géométrie les éventuelles particularités de chaque triangle (longueurs des côtés, angles) :

	<p>J'ai observé que :</p> <p>2 côtés sont égaux</p> <p>C'est un triangle isocèle</p>
	<p>J'ai observé que :</p> <p>Rien de particulier, c'est un triangle quelconque.</p>
	<p>J'ai observé que :</p> <p>Les 3 côtés sont égaux</p> <p>C'est un triangle équilatéral</p>
	<p>J'ai observé que :</p> <p>Il y a un angle droit</p> <p>C'est un triangle rectangle</p>