

# MATHEMATIQUES

## JOUR 1 (M19S1)

### ➤ Activité ritualisée :

- Sur l'ardoise, écris le nombre qui suit les nombres ci-dessous :

59 =>


67 =>

78 =>

- Combien y a-t-il de dizaines dans :  $1 + 9 + 5 + 5 + 7 + 7$

### ➤ Calcul mental :


- Complète la fiche suivante : combien y a-t-il de losanges ?



- Résolution de problèmes : résoudre un problème du mini-fichier Problèmes

### ➤ Apprentissage :

- Complète la fleur numérique suivante :



- Fais une fiche du mini-fichier Repro, si tu ne l'as pas déjà terminé.


## JOUR 2 (M19S2)

### ➤ Activités ritualisées

- Sur l'ardoise, écris le nombre qui suit les nombres ci-dessous :
- 69 =>
- 76 =>
- 74 =>
- Combien y a-t-il de dizaines dans :  $2 + 4 + 7 + 8 + 3 + 6 + 5$

### ➤ Calcul mental

- Complète la fiche suivante : combien y a-t-il de ronds ?
- 



- Résolution de problèmes : résoudre un problème du mini-fichier Problèmes

### ➤ Apprentissage :

- Ecris les nombres suivants au bon endroit dans le tableau ci-dessous :
- 52 ; 68 ; 76 ; 63 ; 58 ; 79 ; 73 ; 56 ; 61 ; 59 ; 71 ; 67

#### Exercices : Les familles

Ecris les nombres au tableau dans la bonne famille :

Famille de cinquante	Famille de soixante	Famille de soixante-dix

- Complète la fleur numérique suivante :

