

NOM : Prénom :

Colorie les tableaux qui relèvent d'une situation de proportionnalité puis indique quel est son coefficient. N'oublie pas d'indiquer le sens de la flèche.

○	1	2	3	5	10	14
	5	10	15	25	50	70

○	5	8	9	11	12	50
	10	16	18	22	24	100

○	3	6	8	10	13	15
	6	6	12	50	55	60

○	4	8	12	15	20	50
	8	16	24	30	40	100

○	3	6	7	11	15	20
	12	24	28	44	60	80

○	5	10	15	25	60	80
	50	100	150	250	600	800

○	6	8	10	12	5	3
	30	40	50	60	25	15

○	12	15	23	54	82	91
	36	45	69	162	246	273

○	1	2	3	4	5	6
	3	6	9	12	15	18

○	4	8	12	15	20	50
	9	16	28	33	41	100

Complète les tableaux après avoir inscrit les coefficients de proportionnalité.

○	3	4	5	6	9	10
	18	24	30	36	54	60

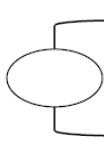
○	14	9	11	45	32	80	}
	154	99	121	495	352	880	

○	1	4	8	6	9	11
	6	24	48	36	54	66

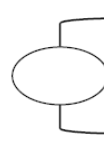
○	25	50	125	45	35	80	}
	125	250	625	225	175	400	

--	--	--	--	--	--	--

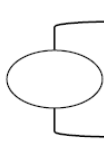
--	--	--	--	--	--	--



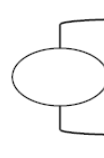
3	6	7		15	20
12			44		



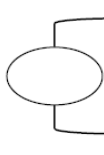
5	10	15	25	60	80
	100				



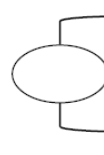
6	8	10	12		
	40			25	15



12	15	23	54	82	91
36					



1			4	5	6
3	6	9			



4	8	12	15	20	50
			30		100