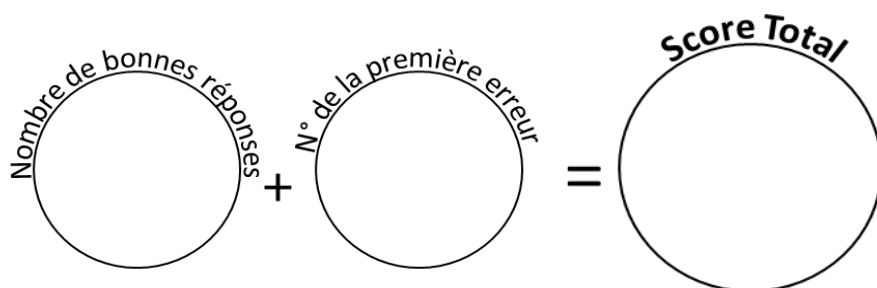


49 calculs en 5 minutes  
(série 678)  
Ceinture jaune

Réponses  
ceinture jaune  
série 678

1	$2 + 9 = \underline{\quad}$	26	la différence entre 9 et 5 est $\underline{\quad}$	11	4
2	$7 - 4 = \underline{\quad}$	27	1 pour aller à 10 : $\underline{\quad}$	3	9
3	$20 - 7 = \underline{\quad}$	28	$49 \times 10 = \underline{\quad}$	13	490
4	le complément à 5 de 1 est $\underline{\quad}$	29	$10 + 6 = \underline{\quad}$	4	16
5	la différence entre 5 et 5 est $\underline{\quad}$	30	$8 - 3 = \underline{\quad}$	0	5
6	7 pour aller à 10 : $\underline{\quad}$	31	$13 - 8 = \underline{\quad}$	3	5
7	$34 \times 10 = \underline{\quad}$	32	le complément à 5 de 4 est $\underline{\quad}$	340	1
8	$0 + 4 = \underline{\quad}$	33	la différence entre 9 et 5 est $\underline{\quad}$	4	4
9	$8 - 3 = \underline{\quad}$	34	3 pour aller à 10 : $\underline{\quad}$	5	7
10	$14 - 0 = \underline{\quad}$	35	$24 \times 10 = \underline{\quad}$	14	240
11	le complément à 5 de 5 est $\underline{\quad}$	36	$5 + 3 = \underline{\quad}$	0	8
12	la différence entre 8 et 5 est $\underline{\quad}$	37	$7 - 1 = \underline{\quad}$	3	6
13	4 pour aller à 10 : $\underline{\quad}$	38	$12 - 1 = \underline{\quad}$	6	11
14	$32 \times 10 = \underline{\quad}$	39	le complément à 5 de 2 est $\underline{\quad}$	320	3
15	$8 + 7 = \underline{\quad}$	40	la différence entre 9 et 5 est $\underline{\quad}$	15	4
16	$6 - 0 = \underline{\quad}$	41	3 pour aller à 10 : $\underline{\quad}$	6	7
17	$15 - 2 = \underline{\quad}$	42	$51 \times 10 = \underline{\quad}$	13	510
18	le complément à 5 de 1 est $\underline{\quad}$	43	$8 + 10 = \underline{\quad}$	4	18
19	la différence entre 5 et 5 est $\underline{\quad}$	44	$8 - 5 = \underline{\quad}$	0	3
20	1 pour aller à 10 : $\underline{\quad}$	45	$15 - 5 = \underline{\quad}$	9	10
21	$83 \times 10 = \underline{\quad}$	46	le complément à 5 de 2 est $\underline{\quad}$	830	3
22	$7 + 6 = \underline{\quad}$	47	la différence entre 7 et 5 est $\underline{\quad}$	13	2
23	$5 - 2 = \underline{\quad}$	48	6 pour aller à 10 : $\underline{\quad}$	3	4
24	$12 - 7 = \underline{\quad}$	49	$32 \times 10 = \underline{\quad}$	5	320
25	le complément à 5 de 3 est $\underline{\quad}$			2	

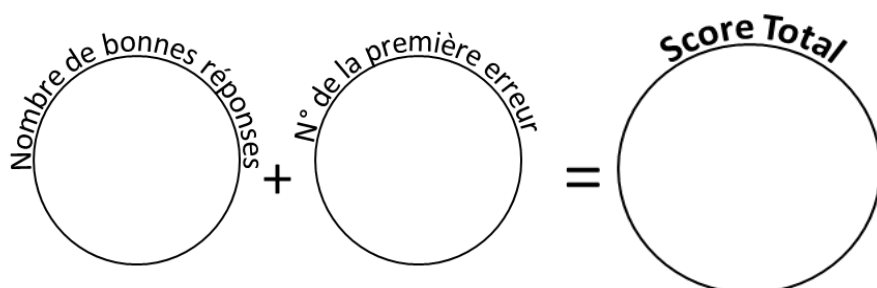


Reporte ton score sur ton graphique !

49 calculs en 5 minutes  
(série 642)  
Ceinture jaune

Réponses  
ceinture jaune  
série 642

1	$9 + 8 = \underline{\quad}$	26	la différence entre 8 et 5 est $\underline{\quad}$	17	3
2	$9 - 2 = \underline{\quad}$	27	1 pour aller à 10 : $\underline{\quad}$	7	9
3	$17 - 8 = \underline{\quad}$	28	$81 \times 10 = \underline{\quad}$	9	810
4	le complément à 5 de 1 est $\underline{\quad}$	29	$2 + 5 = \underline{\quad}$	4	7
5	la différence entre 9 et 5 est $\underline{\quad}$	30	$8 - 5 = \underline{\quad}$	4	3
6	8 pour aller à 10 : $\underline{\quad}$	31	$19 - 10 = \underline{\quad}$	2	9
7	$25 \times 10 = \underline{\quad}$	32	le complément à 5 de 2 est $\underline{\quad}$	250	3
8	$3 + 7 = \underline{\quad}$	33	la différence entre 7 et 5 est $\underline{\quad}$	10	2
9	$9 - 1 = \underline{\quad}$	34	10 pour aller à 10 : $\underline{\quad}$	8	0
10	$14 - 2 = \underline{\quad}$	35	$48 \times 10 = \underline{\quad}$	12	480
11	le complément à 5 de 2 est $\underline{\quad}$	36	$9 + 10 = \underline{\quad}$	3	19
12	la différence entre 10 et 5 est $\underline{\quad}$	37	$10 - 2 = \underline{\quad}$	5	8
13	0 pour aller à 10 : $\underline{\quad}$	38	$16 - 0 = \underline{\quad}$	10	16
14	$12 \times 10 = \underline{\quad}$	39	le complément à 5 de 4 est $\underline{\quad}$	120	1
15	$7 + 5 = \underline{\quad}$	40	la différence entre 9 et 5 est $\underline{\quad}$	12	4
16	$6 - 3 = \underline{\quad}$	41	10 pour aller à 10 : $\underline{\quad}$	3	0
17	$12 - 10 = \underline{\quad}$	42	$48 \times 10 = \underline{\quad}$	2	480
18	le complément à 5 de 1 est $\underline{\quad}$	43	$6 + 3 = \underline{\quad}$	4	9
19	la différence entre 10 et 5 est $\underline{\quad}$	44	$10 - 2 = \underline{\quad}$	5	8
20	2 pour aller à 10 : $\underline{\quad}$	45	$12 - 7 = \underline{\quad}$	8	5
21	$38 \times 10 = \underline{\quad}$	46	le complément à 5 de 0 est $\underline{\quad}$	380	5
22	$5 + 6 = \underline{\quad}$	47	la différence entre 10 et 5 est $\underline{\quad}$	11	5
23	$7 - 2 = \underline{\quad}$	48	1 pour aller à 10 : $\underline{\quad}$	5	9
24	$11 - 4 = \underline{\quad}$	49	$80 \times 10 = \underline{\quad}$	7	800
25	le complément à 5 de 1 est $\underline{\quad}$			4	

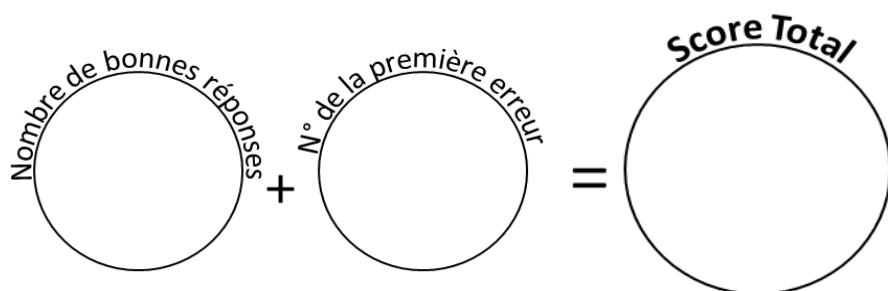


Reporte ton score sur ton graphique !

49 calculs en 5 minutes  
(série 935)  
Ceinture jaune

Réponses  
ceinture jaune  
série 935

1	$0 + 4 = \underline{\quad}$	26	la différence entre 10 et 5 est $\underline{\quad}$	4	5
2	$8 - 0 = \underline{\quad}$	27	3 pour aller à 10 : $\underline{\quad}$	8	7
3	$12 - 10 = \underline{\quad}$	28	$58 \times 10 = \underline{\quad}$	2	580
4	le complément à 5 de 3 est $\underline{\quad}$	29	$7 + 5 = \underline{\quad}$	2	12
5	la différence entre 10 et 5 est $\underline{\quad}$	30	$5 - 4 = \underline{\quad}$	5	1
6	0 pour aller à 10 : $\underline{\quad}$	31	$17 - 3 = \underline{\quad}$	10	14
7	$66 \times 10 = \underline{\quad}$	32	le complément à 5 de 0 est $\underline{\quad}$	660	5
8	$3 + 1 = \underline{\quad}$	33	la différence entre 10 et 5 est $\underline{\quad}$	4	5
9	$8 - 3 = \underline{\quad}$	34	2 pour aller à 10 : $\underline{\quad}$	5	8
10	$18 - 10 = \underline{\quad}$	35	$84 \times 10 = \underline{\quad}$	8	840
11	le complément à 5 de 1 est $\underline{\quad}$	36	$5 + 4 = \underline{\quad}$	4	9
12	la différence entre 5 et 5 est $\underline{\quad}$	37	$10 - 1 = \underline{\quad}$	0	9
13	0 pour aller à 10 : $\underline{\quad}$	38	$15 - 3 = \underline{\quad}$	10	12
14	$42 \times 10 = \underline{\quad}$	39	le complément à 5 de 4 est $\underline{\quad}$	420	1
15	$3 + 9 = \underline{\quad}$	40	la différence entre 7 et 5 est $\underline{\quad}$	12	2
16	$8 - 4 = \underline{\quad}$	41	0 pour aller à 10 : $\underline{\quad}$	4	10
17	$20 - 5 = \underline{\quad}$	42	$67 \times 10 = \underline{\quad}$	15	670
18	le complément à 5 de 2 est $\underline{\quad}$	43	$9 + 3 = \underline{\quad}$	3	12
19	la différence entre 6 et 5 est $\underline{\quad}$	44	$5 - 4 = \underline{\quad}$	1	1
20	7 pour aller à 10 : $\underline{\quad}$	45	$19 - 8 = \underline{\quad}$	3	11
21	$27 \times 10 = \underline{\quad}$	46	le complément à 5 de 0 est $\underline{\quad}$	270	5
22	$0 + 8 = \underline{\quad}$	47	la différence entre 5 et 5 est $\underline{\quad}$	8	0
23	$7 - 5 = \underline{\quad}$	48	8 pour aller à 10 : $\underline{\quad}$	2	2
24	$18 - 6 = \underline{\quad}$	49	$35 \times 10 = \underline{\quad}$	12	350
25	le complément à 5 de 0 est $\underline{\quad}$			5	



Reporte ton score sur ton graphique !