
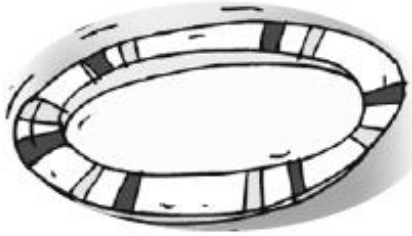


J'entoure dans le texte ce que je vais dessiner, je complète le dessin (si je n'arrive pas à dessiner je fais des ronds, des carrés, des étoiles...), puis je réponds.

Si ce document ne peut être imprimé, il pourra être recopié dans le cahier.

A



Dans une assiette, il y a **3 pommes** et dans l'autre il y a 7 fraises (dessine).

◆ **Combien de fruits y a-t-il en tout ?**

☆ Écris l'opération :

.....

☺ Il y a ..... fruits.

B



Théo a **3 chats**, 2 chiens et 3 hamsters (dessine).

◆ **Combien d'animaux a-t-il en tout ?**



☆ Écris l'opération :

.....

☺ Milo a ..... animaux

**CORRECTION à cacher lors de la résolution des exercices**

A



Dans une assiette, il y a **3 pommes** et dans l'autre il y a **7 fraises** (dessine).

◆ **Combien de fruits y a-t-il en tout ?**

☆ Écris l'opération :

$$3 + 7 = 10$$

☺ Il y a **10** fruits.

B



Théo a **3 chats**, **2 chiens** et **3 hamsters** (dessine).

◆ **Combien d'animaux a-t-il en tout ?**

☆ Écris l'opération :

$$3 + 2 + 3 = 8$$

☺ Milo a **8** animaux