



**Ecris la suite !**


- Continue en avançant de 11 en 11 :

3	14										
---	----	--	--	--	--	--	--	--	--	--	--

6	17										
---	----	--	--	--	--	--	--	--	--	--	--

**Entoure la bonne réponse**

- 1 heure a une durée égale à :**
- 30 minutes
  - 60 minutes
  - 80 minutes



- Entre 14h et 15h, il s'écoule :**
- 20 minutes
  - 30 minutes
  - 60 minutes

- Entre 8h20 et 9h, il s'écoule :**
- 40 minutes
  - 20 minutes
  - 1 heure et 20 minutes



- Entre 13h15 et 13h30, il s'écoule :**
- 30 minutes
  - 15 minutes
  - 5 minutes

- Entre 12h10 et 12h20, il s'écoule :**
- 1 heure et 10 minutes
  - 20 minutes
  - 10 minutes

- Entre 9h30 et 10h00, il s'écoule :**
- 1 heure
  - 30 minutes
  - 10 heures



**Ecris la suite !**


- Continue en avançant de 11 en 11 :

3	14										
---	----	--	--	--	--	--	--	--	--	--	--

6	17										
---	----	--	--	--	--	--	--	--	--	--	--


**Entoure la bonne réponse**

- 1 heure a une durée égale à :**
- 30 minutes
  - 60 minutes
  - 80 minutes



- Entre 14h et 15h, il s'écoule :**
- 20 minutes
  - 30 minutes
  - 60 minutes

- Entre 8h20 et 9h, il s'écoule :**
- 40 minutes
  - 20 minutes
  - 1 heure et 20 minutes



- Entre 13h15 et 13h30, il s'écoule :**
- 30 minutes
  - 15 minutes
  - 5 minutes

- Entre 12h10 et 12h20, il s'écoule :**
- 1 heure et 10 minutes
  - 20 minutes
  - 10 minutes

- Entre 9h30 et 10h00, il s'écoule :**
- 1 heure
  - 30 minutes
  - 10 heures