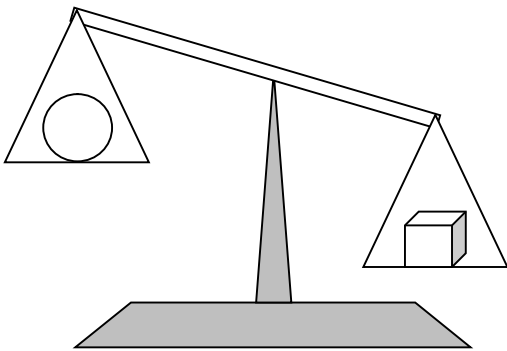
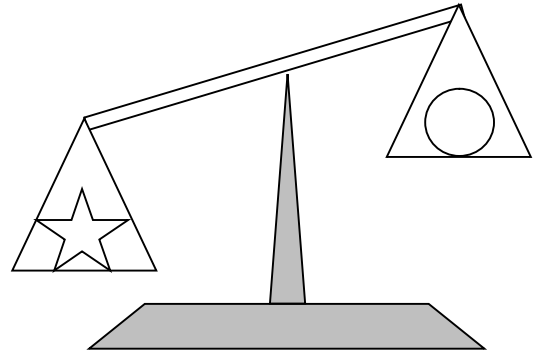
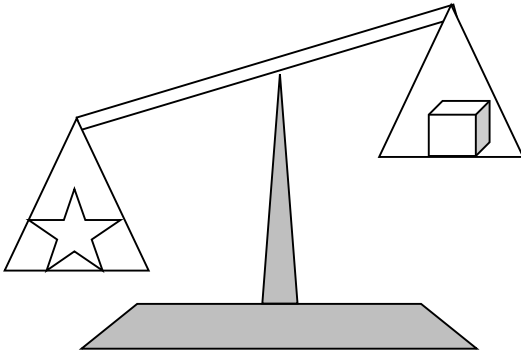


Evaluations 1- ULIS	Programmes 2016	Ecole
Prénom :	MATHEMATIQUES – Grandeurs et mesures	
Date :	<u>Compétences :</u> – Comparer, estimer, mesurer des longueurs, des masses, des contenances, des durées – Utiliser le lexique, les unités, les instruments de mesures spécifiques de ces grandeurs – Résoudre des problèmes impliquant des longueurs, des masses, des contenances, des durées, des prix	

Je coche la bonne réponse :	
Un éléphant pèse 3 000	<input type="checkbox"/> kilogrammes. <input type="checkbox"/> grammes. <input type="checkbox"/> litres.
Un crayon mesure 15	<input type="checkbox"/> kilogrammes. <input type="checkbox"/> centimètres. <input type="checkbox"/> euros.
Mon skateboard coûte 20	<input type="checkbox"/> euros. <input type="checkbox"/> grammes. <input type="checkbox"/> mètres.
Le portail de mon jardin fait 2 de longueur.	<input type="checkbox"/> kilomètres <input type="checkbox"/> mètres <input type="checkbox"/> kilogrammes
Paris est à 350 d'Uckange.	<input type="checkbox"/> kilogrammes <input type="checkbox"/> kilomètres <input type="checkbox"/> mètres
La recette indique qu'il faut 500 de farine.	<input type="checkbox"/> kilogrammes <input type="checkbox"/> litres <input type="checkbox"/> grammes
Ma piscine contient 2000 d'eau.	<input type="checkbox"/> euros <input type="checkbox"/> litres <input type="checkbox"/> mètres

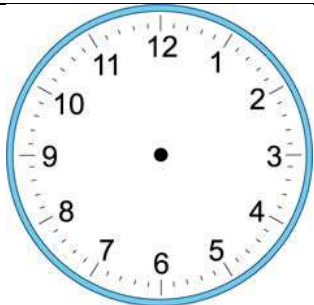
Je colorie l'objet le plus lourd sur chaque balance.



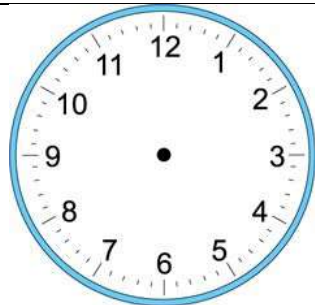
Je range les objets du plus léger au plus lourd :

.....

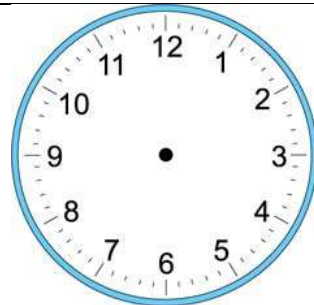
Je dessine les aiguilles pour que l'horloge indique l'heure demandée.



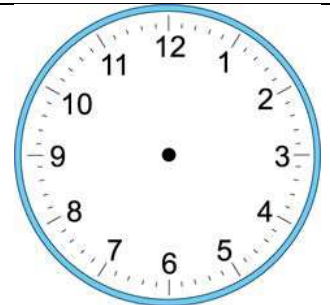
Il est 10h30.



Il est 8h00.

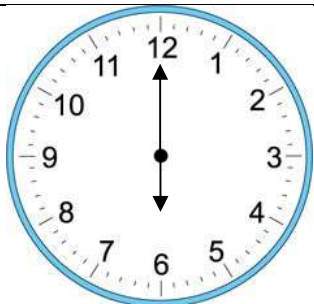


Il est 12h00.

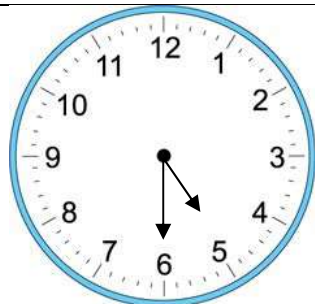


Il est 6h30.

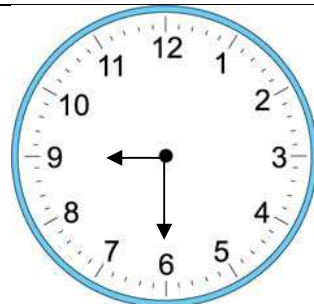
J'écris l'heure indiquée par l'horloge.



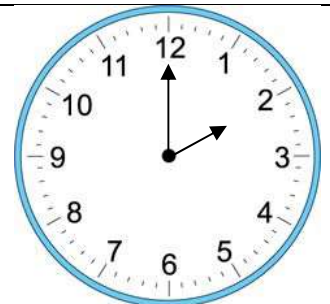
Il est



Il est



Il est



Il est