

Prénom : _____

Date : _____




Nombres et calculs : Les nombres entiers
Repérer et placer des nombres entiers sur une droite graduée

CM2

Fiche d'exercices n° 6




Exercice 1 : La demi-droite graduée représente les distances auxquelles des enfants ont lancé le javelot.



- À quelle distance Julien, Lucie et Mélissa ont-ils lancé le javelot ? **Julien** : _____ **Lucie** : _____ **Mélissa** : _____
- Approximativement, à quelle distance, Sylvain a-t-il lancé le javelot ? **Sylvain** : _____
- Place approximativement les lanceurs suivants : **Lise** : 54 m **Damien** : 77 m



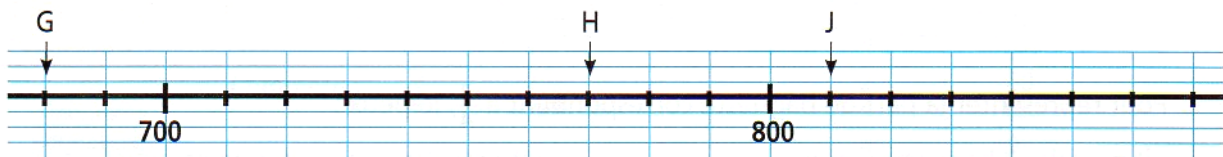
Exercice 2 : Le morceau de demi-droite graduée ci-dessous représente le nombre d'habitants de différents villages.



- Quelle est le nombre d'habitants des villages A, B et C ? **village A** : _____ **village B** : _____ **village C** : _____
- Approximativement, combien y a-t-il d'habitants dans le village D ? **village D** : _____
- Place approximativement les villages suivants : **village E** : 846 hab. **village F** : 732 hab.



Exercice 3 : Sur le morceau de droite graduée ci-dessous, on a déjà situé les nombres 700 et 800.



- Quels sont les nombres représentés par chacun des points ? **G** : _____ **H** : _____ **J** : _____
- Place précisément les nombres suivants. **K** : 870 **L** : 790
- Place approximativement les nombres suivants. **M** : 875 **N** : 799



Exercice 4 : Place les nombres suivants sur la droite graduée.

4350 • 4 750 • 4 550 • 4 425 • 4 675 • 4 835

