

1. Calcul mental :  **écris** les calculs montrés.



2. Comparer deux nombres :  **colorie** le plus grand nombre.



3. Comparer deux nombres :  **colorie** le plus petit nombre.

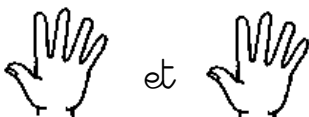


4. Décomposer le nombre 6 :

 **complète** la maison du 6.







6	
0+6	6+__
1+5	5+__
2+4	4+__
3+__	



5. Dessine et complète les calculs pour faire 6



 $3 + _ = 6$	 $1 + _ = 6$
 $4 + _ = 6$	 $5 + _ = 6$

6.  J'écris le nombre 7.



