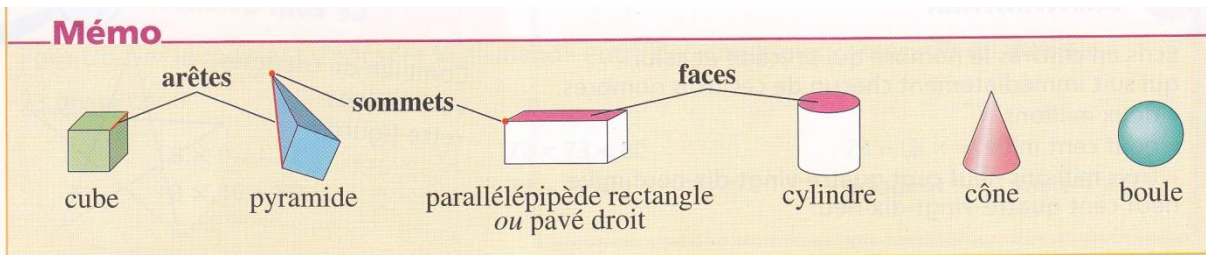


CM1

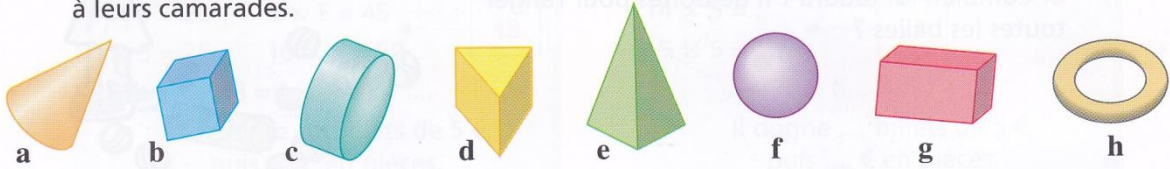
# ESPACE ET GEOMETRIE

## LES SOLIDES

### DES EXEMPLES DE SOLIDES



Pour découvrir l'un des solides ci-dessous, Mélissa et Julien ont posé des questions à leurs camarades.



Voici les réponses qu'ils ont obtenues.

Questions de Mélissa	Réponses
A-t-il des faces carrées ?	Non
A-t-il des arêtes perpendiculaires ?	Non
Peut-il rouler ?	Oui
A-t-il un sommet ?	Oui

Questions de Julien	Réponses
A-t-il une face arrondie ?	Oui
A-t-il des faces planes ?	Oui
Ses faces sont-elles toutes des carrés ou des rectangles ?	Non
A-t-il un sommet ?	Non

**a.** Quel solide Mélissa a-t-elle découvert ?

**b.** Quel solide Julien a-t-il découvert ?

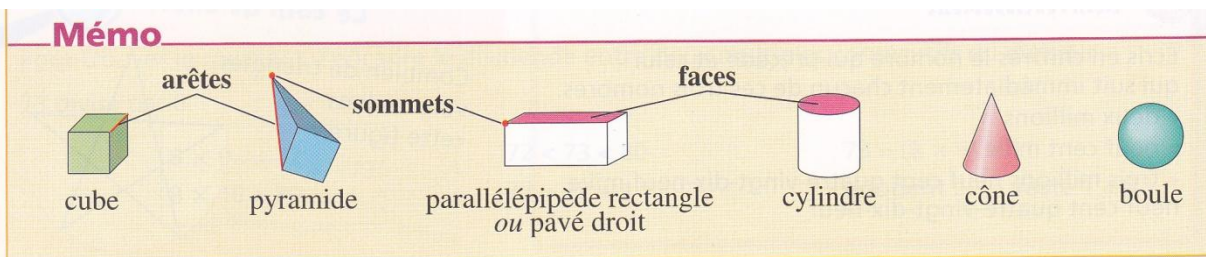
(Source : Pour comprendre les maths CM1)

CM1

# ESPACE ET GEOMETRIE

## LES SOLIDES

### DES EXEMPLES DE SOLIDES



Donne le nom des solides

.....	.....
<p>J'ai 8 arêtes.                  J'ai quatre faces. Trois sont des triangles.</p>	<p>J'ai 3 faces. Deux de mes faces sont arrondies.                  Je peux rouler.</p>