

Ecole : .....

Equipe : .....

Nom : .....



**Casse-tête n° 1 : les cartes**



Les cinq cartes ci-contre ont un dessin sur chaque face.

Elles sont de deux sortes :

- des cartes avec un chien sur une face et un poisson sur l'autre,

- des cartes avec un papillon sur une face et un oiseau sur l'autre.

Combien y a-t-il de poissons au total sur ces cinq cartes ?

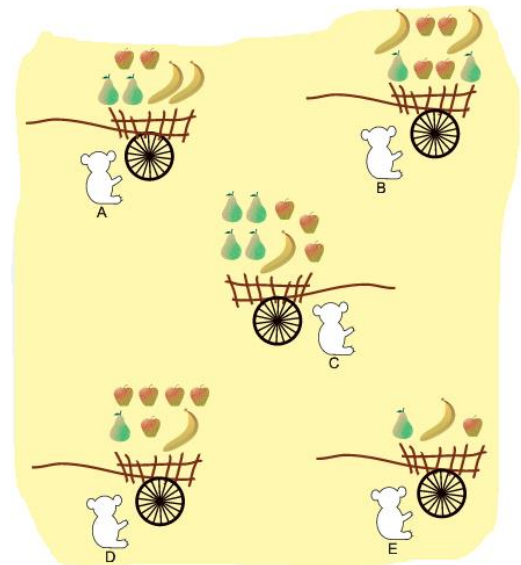
.....

**Casse-tête n°2 : le mur**



Il a fait tomber ..... Cubes.

**Casse-tête n°3 : les fruits**







Dans une de ces charrettes, il y a exactement la moitié des fruits qui sont des pommes.

Laquelle est-ce ? A B C D E

**Casse-tête n°4 : la pendule**

Parmi ces quatre pendules, une retarde de 30 minutes, une avance de 30 minutes, une retarde de 1 heure et une est à l'heure. Quelle heure est-il ?



Il est .....