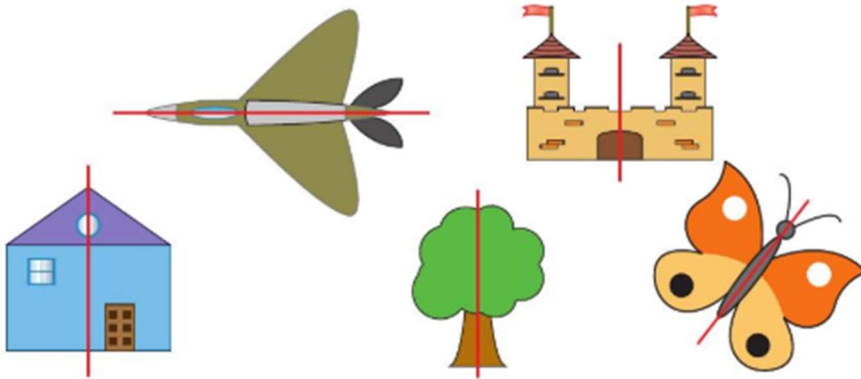


## Découvrons

**1** Entoure les figures symétriques.

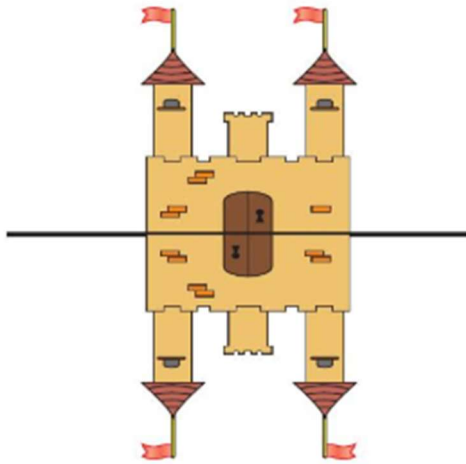


Ce cœur est symétrique : ces deux parties se superposent par pliage.

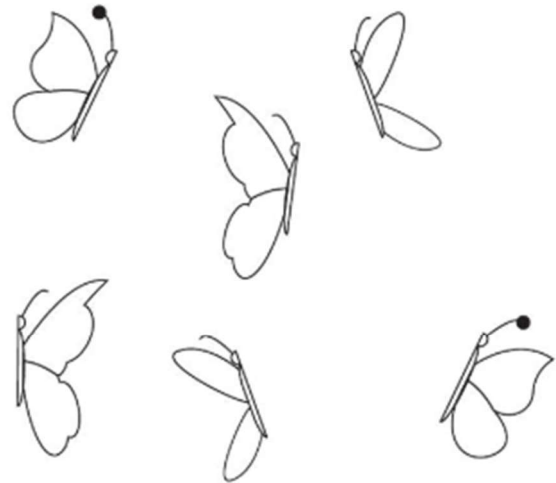


## Je m'entraîne

**2** Observe le reflet du château dans l'eau. Entoure les 3 erreurs.

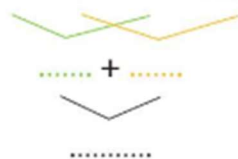


**3** Colorie de la même couleur les deux parties du même papillon.

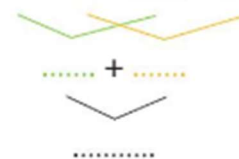


**4** Calcule.

$$45 + 23 = 40 + 5 + 20 + \dots$$



$$32 + 65 = 30 + 2 + \dots + \dots$$



## CALCUL MENTAL :

$45 + 20 = \dots$

$37 + 30 = \dots$

$25 + 10 = \dots$

$36 + 40 = \dots$

$52 + 40 = \dots$

$24 + 30 = \dots$

$47 + 50 = \dots$

$63 + 10 = \dots$