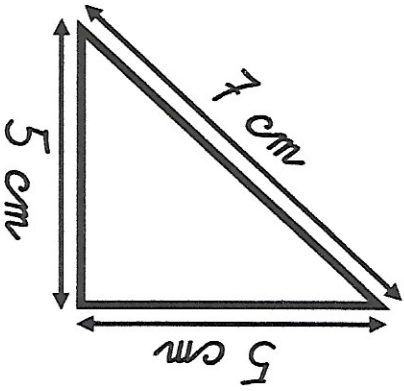
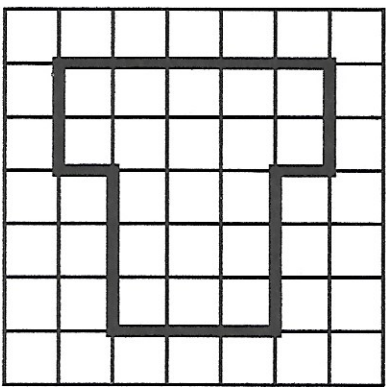




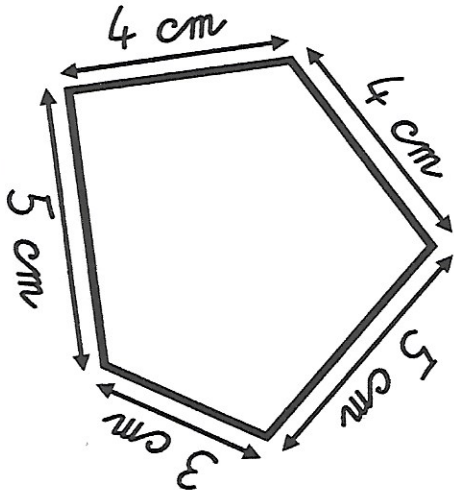
Calcule le périmètre de ces polygones.




$P =$ _____
 $P =$ _____ cm



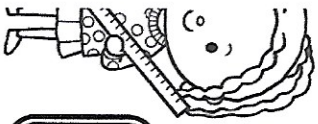
$P =$ _____
 $P =$ _____ carreaux



$P =$ _____
 $P =$ _____ cm



$P =$ _____
 $P =$ _____ carreaux



Résous ce problème dans ton cahier.

max veut entourer son patager carré de 15 m de
avec une barrière.

Le longueur de barrière lui faut-il ?

Dans ton cahier, trace un polygone de périmètre 12 carreaux !

