





Maths

Repérer et coder une case dans un quadrillage (2)

CP

1

Dessine les fleurs dans les cases indiquées.

-  (b, 1)
-  (a, 4)
-  (d, 3)
-  (c, 2)

4
3
2
1

a	b	c	d

2

Ecris le code de chaque figure.

□ (,) △ (,) ○ (,)

Dessine les figures à leur place.

-  (b, 3)
-  (c, 2)

3	□		○
2			
1	△		
	a	b	c

3

Place une fleur **orange** en (b, 2).

une fleur **bleue** en (a, 1).

une fleur **rouge** en (d, 4).

une fleur **jaune** en (b, 3).

4				
3				
2				
1				
	a	b	c	d

4

Colorie comme il convient.

(b, 3) est **rouge** et la case juste en dessous est **jaune**.

(a, 1) est **marron** et la case juste au-dessus est **rose**.

Entre (c, 3) et (c, 1) se trouve une case **verte**.

3			
2			
1			
	a	b	c