

ÉVALUATION ESPACE - DE VERSAILLES À PARIS



1 Explique pourquoi il y a souvent des embouteillages à Paris.

.....

.....

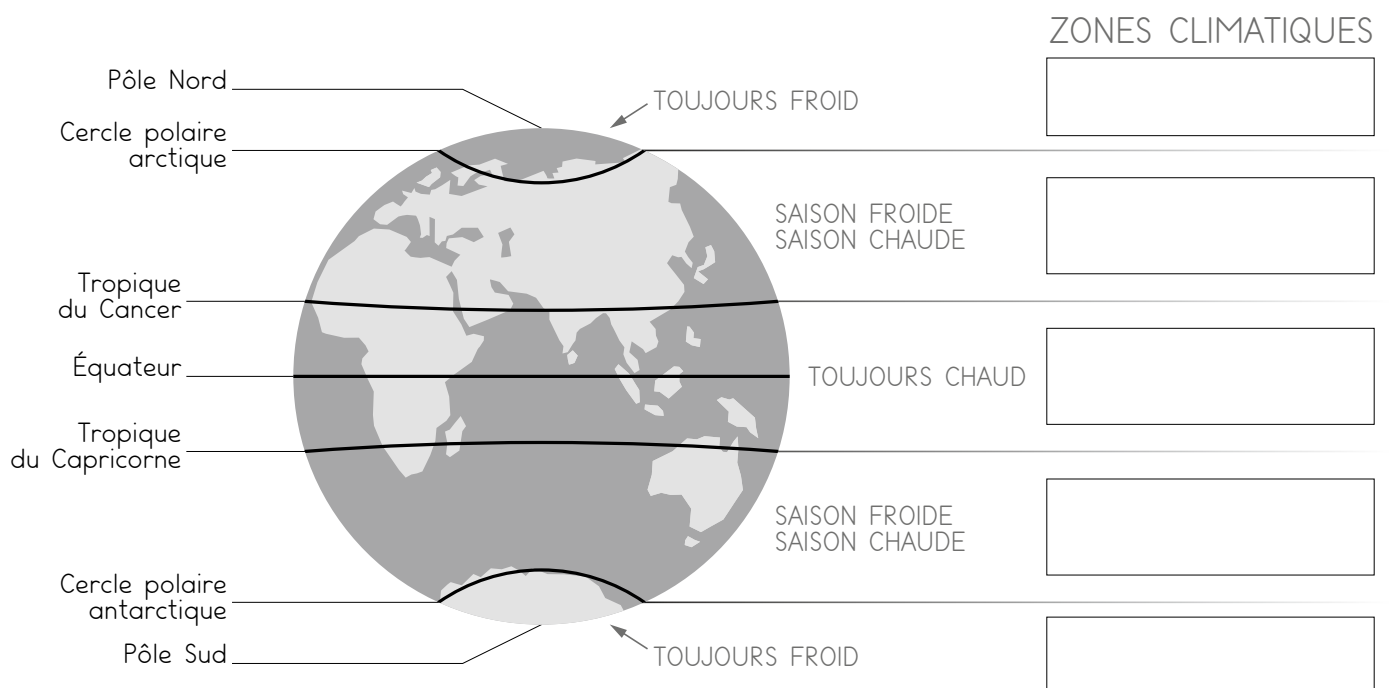
.....

2 Indique de quel type de climat il s'agit sur chacune de ces photographies: climat tempéré, climat froid, climat chaud.

		
.....

3 Complète le schéma avec le nom des grandes zones climatiques.
Colorie les cadres d'après le code établi.

ZONES CLIMATIQUES



Pôle Nord

Cercle polaire arctique

Tropicque du Cancer

Équateur

Tropicque du Capricorne

Cercle polaire antarctique

Pôle Sud

TOUJOURS FROID

SAISON FROIDE
SAISON CHAUDE

TOUJOURS CHAUD

SAISON FROIDE
SAISON CHAUDE

TOUJOURS FROID