

Nous faisons ces exercices ensemble.

Fiche no 6 (a)

43



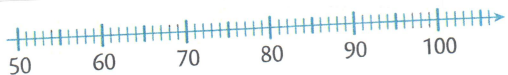
$$43 = 4d + 3u = 40 + 3$$



$$52 = \dots = \dots$$

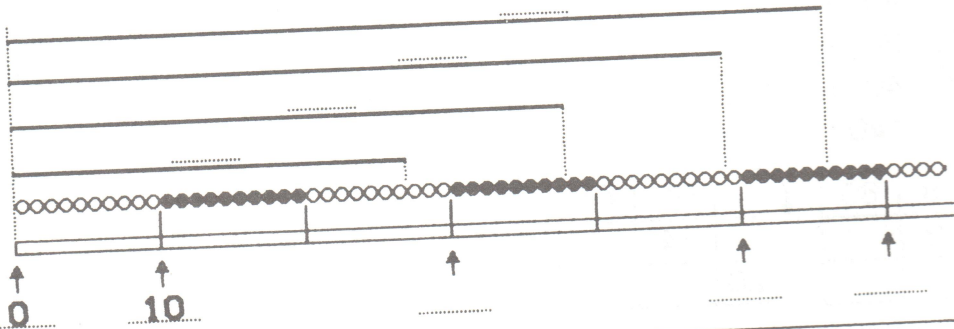


$$79 = \dots = \dots$$



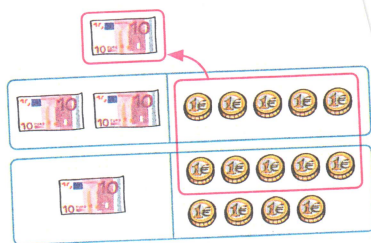
$$92 = \dots = \dots$$

2



3

	d	u
	2	5
+	1	9



$$37 + 22 = 5 \dots + \dots = \dots$$

$$45 + 33 = \dots + \dots = \dots$$

$$24 + 55 = 74 + \dots = \dots$$

$$73 + 14 = \dots + 4 = \dots$$

$$145 + 23 = \dots$$

$$42 + 55 = \dots$$

$$\dots = 63 + 25$$

$$\dots = 34 + 52$$

$$27 + 65 = \dots$$

4

Calcule.

$$\begin{array}{r} 18 \\ + 51 \\ \hline \end{array} \quad \begin{array}{r} 35 \\ + 26 \\ \hline \end{array} \quad \begin{array}{r} 48 \\ + 7 \\ \hline \end{array}$$

$$67 - 22 = [67 - 20] - 2 = 47 - 2 = \dots$$

$$67 - 22 = [67 - 2] - 20 = 65 - 20 = \dots$$

$$67 - 32 = 37 - \dots = \dots$$

$$89 - 48 = \dots - 8 = \dots$$

$$74 - 31 = \dots - \dots = \dots$$

$$94 - 52 = \dots$$

$$89 - 33 = \dots$$

$$153 - 21 = \dots$$

$$\dots = 65 - 31$$

$$\dots = 77 - 36$$

5

Au jeu de fléchettes, mon frère joue d'abord. Après ses trois lancers, il a 75 points. Je joue maintenant. Au premier lancer, j'obtiens 5 points et au deuxième 50 points. Combien dois-je faire au troisième pour avoir autant de points que mon frère ?

Je dois faire points. Calcul: