

Mesures CM1 : Les aires

1) Calcule l'aire de ces figures à l'aide de l'unité proposée.

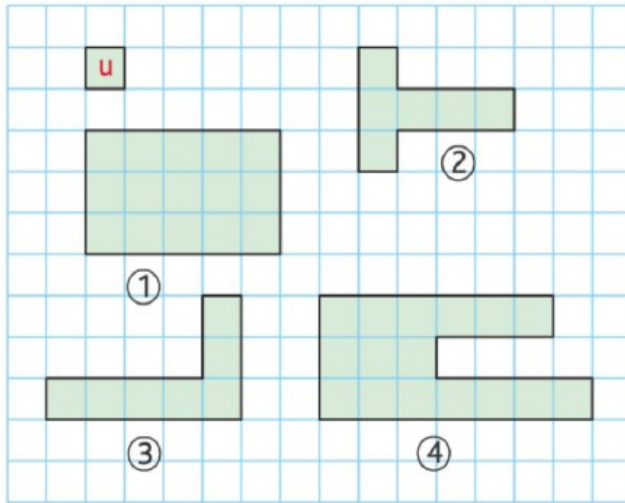


Figure 1 : Aire =

Figure 2 : Aire =

Figure 3 : Aire =

Figure 4 : Aire =

Figure 5 : Aire =

Aire =

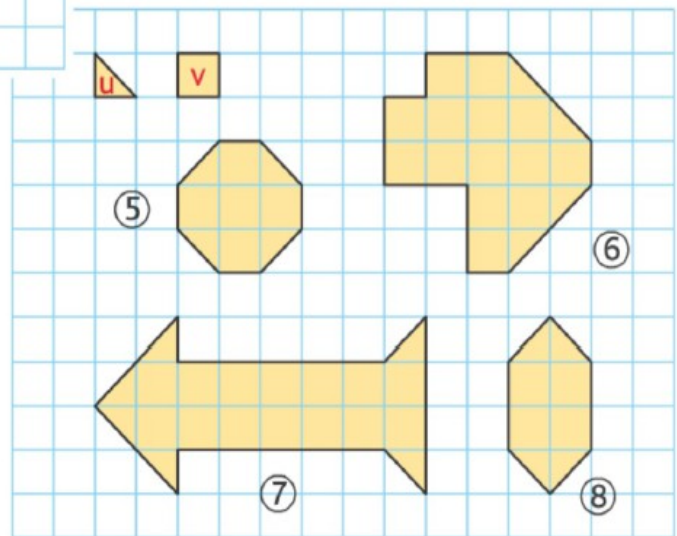
Figure 6 : Aire =

Aire =

Figure 7 : Aire =

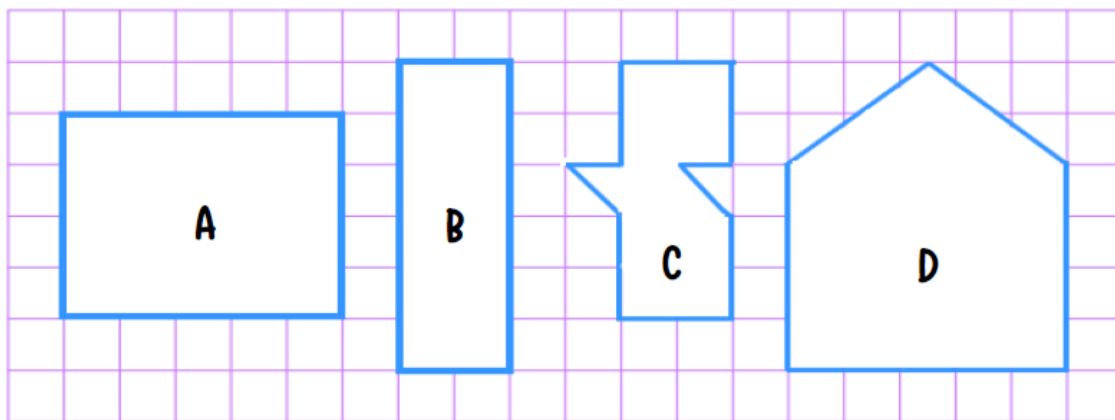
Aire =

Figure 8 : Aire =



Aire =

2) Range ces aires dans l'ordre croissant.



..... < < <

3) Sur ton cahier, en prenant un carreau comme unité d'aire, dessine deux figures différentes ayant pour aire 16 unités.

