

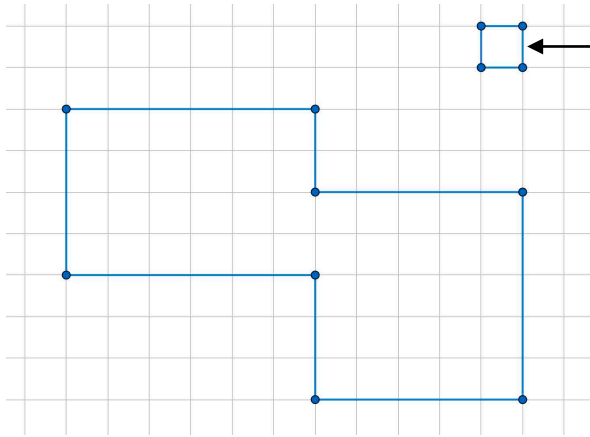
Grandeurs et mesures

Aire et périmètre



Calcule le périmètre et l'aire de chacun des polygones suivants. N'oublie pas les unités de mesures !
Ecris tes calculs dans les cadres prévus à cet effet.

Tu peux bien sûr tracer, écrire sur les figures, et même les colorier si cela peut t'aider.

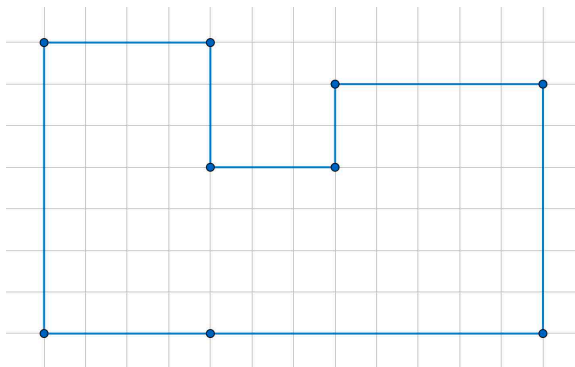


L'unité est ce carré de côté = 1 cm, et d'aire = 1 cm²

Périmètre :

Aire :

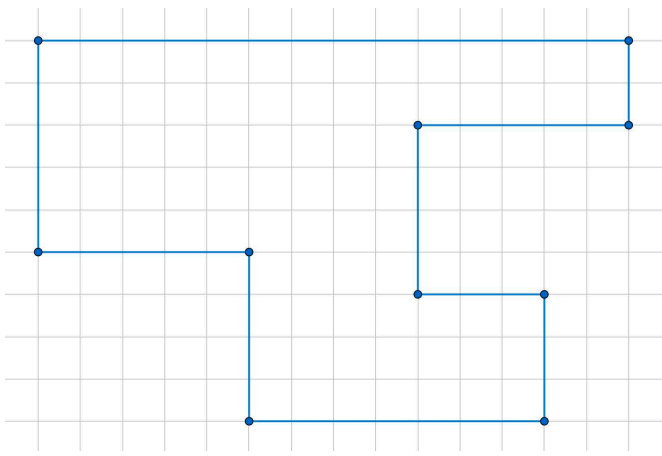
Calculs



Périmètre :

Aire :

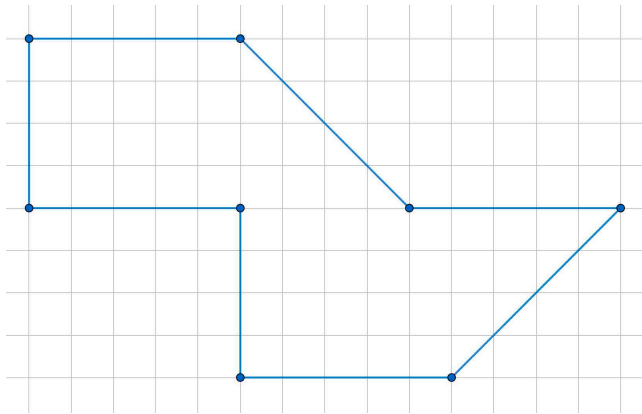
Calculs



Périmètre :

Aire :

Calculs



Périmètre :

Aire :

Calculs