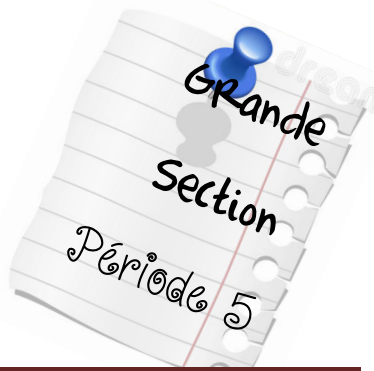




Brevet des nombres et des formes



Atelier	Image	Consigne
---------	-------	----------

1

Mémoriser des quantités de 10 à 15 éléments




Je compte sur chaque roue le nombre de bonbons.

Brevet validé le :

Trouver le complément à 10

2



J'accroche sur chaque partie de la roue la pince à linge qui permet d'obtenir 10 points au total.

Brevet validé le :

Additionner 2 nombres

3



Je range chaque domino dans la maison correspondant au nombre total de points.

Brevet validé le :

Reproduire un algorithme complexe

4



J'observe l'algorithme d'une carte et je le reproduis avec les chainons.

Brevet validé le :

Réaliser des encastremnts en volume

5



J'assemble les pièces les unes aux autres pour obtenir une construction en volume .



Brevet validé le :

Réaliser un puzzle de 9 pièces et plus

6



J'enlève toutes les pièces puis je reconstitue un puzzle.



Brevet validé le :

Paver une surface complexe

7



Je réalise les tangrams sur les modèles à taille réelle. J'essaie ensuite avec des modèles à taille réduite.



Brevet validé le :

Classer des objets selon leur forme

9



Je place les objets cubiques dans une barquette, les sphériques dans une seconde, les pyramidaux dans une 3^{ème} et les cylindriques dans une 4^{ème}




Brevet validé le :

Des objets de leur masse

10



Je compare la masse des bouteilles et je les place de la plus légère la plus lourde.



Brevet validé le :

