

Alex et Lisa se partagent le trésor.

Chacun doit recevoir le même nombre de pépites et il doit rester le moins de pépites.

Combien de pépites aura chaque enfant?



49



Alex et Lisa se partagent le trésor.

Chacun doit recevoir le même nombre de pépites et il doit rester le moins de pépites.

Combien de pépites aura chaque enfant?



49



Alex et Lisa se partagent le trésor.

Chacun doit recevoir le même nombre de pépites et il doit rester le moins de pépites.

Combien de pépites aura chaque enfant?



49



50

Dans la salle de spectacle, il y a 65 places debout, 26 places assises sur des bancs et 20 places assises sur des fauteuils.

Combien de personnes peuvent assister au spectacle ?



50

Dans la salle de spectacle, il y a 65 places debout, 26 places assises sur des bancs et 20 places assises sur des fauteuils.

Combien de personnes peuvent assister au spectacle ?



50

Dans la salle de spectacle, il y a 65 places debout, 26 places assises sur des bancs et 20 places assises sur des fauteuils.

Combien de personnes peuvent assister au spectacle ?



Dans une classe de 29 élèves, il y a 14 filles.

Combien y a-t-il de garçons ?



51



Dans une classe de 29 élèves, il y a 14 filles.

Combien y a-t-il de garçons ?



51



Dans une classe de 29 élèves, il y a 14 filles.

Combien y a-t-il de garçons ?



51



52

Papa achète 4 boîtes de pâté pour Moustik.

Chaque boîte coûte 3 €.

Combien papa va-t-il payer ?



52

Papa achète 4 boîtes de pâté pour Moustik.

Chaque boîte coûte 3 €.

Combien papa va-t-il payer ?




52

Papa achète 4 boîtes de pâté pour Moustik.

Chaque boîte coûte 3 €.

Combien papa va-t-il payer ?



Dans la classe, il y a 32 élèves. On veut partager la classe en quatre ateliers.

Combien y aura-t-il d'élèves par atelier ?

--	--

53



Dans la classe, il y a 32 élèves. On veut partager la classe en quatre ateliers.

Combien y aura-t-il d'élèves par atelier ?

--	--

53



Dans la classe, il y a 32 élèves. On veut partager la classe en quatre ateliers.

Combien y aura-t-il d'élèves par atelier ?

--	--

53



54

Dans un bouquet, il y a 37 roses, 25 violettes et 23 tulipes.

Combien y a-t-il de fleurs en tout ?



54

Dans un bouquet, il y a 37 roses, 25 violettes et 23 tulipes.

Combien y a-t-il de fleurs en tout ?



54

Dans un bouquet, il y a 37 roses, 25 violettes et 23 tulipes.

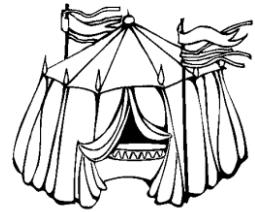
Combien y a-t-il de fleurs en tout ?



Lisa est allée au cirque. Il y avait 325 places assises.

128 personnes étaient déjà assises.

Combien restait-il de laces assises ?



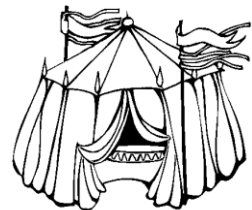
55



Lisa est allée au cirque. Il y avait 325 places assises.

128 personnes étaient déjà assises.

Combien restait-il de laces assises ?

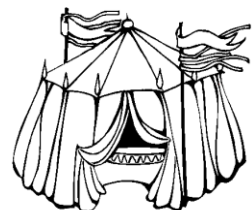


55



Alex a 148 autocollants Ses parents lui en achètent 26 de plus.

Combien Alex a-t-il d'autocollants maintenant ?




55



56

La maman d'Alex a fait les courses. Voici ce qu'elle a acheté.


Combien a-t-elle payé ?



56

La maman d'Alex a fait les courses. Voici ce qu'elle a acheté.


Combien a-t-elle payé ?



56

La maman d'Alex a fait les courses. Voici ce qu'elle a acheté.

Combien a-t-elle payé ?



Maman a préparé 48 pots de confiture qu'elle veut ranger sur des étagères. Elle a déjà rangé 35 pots.

Combien reste-t-il de pots à ranger ?



57



Maman a préparé 48 pots de confiture qu'elle veut ranger sur des étagères. Elle a déjà rangé 35 pots.

Combien reste-t-il de pots à ranger ?



57



Maman a préparé 48 pots de confiture qu'elle veut ranger sur des étagères. Elle a déjà rangé 35 pots.

Combien reste-t-il de pots à ranger ?



57

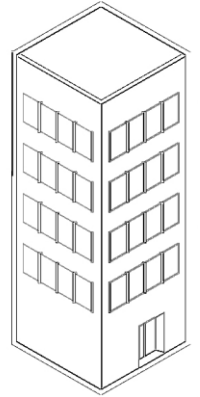


58

Alex monte au sommet d'une tour.

Il a déjà monté 146 marches. Il lui reste encore 148 marches.

Combien de marches y a-t-il en tout ?




58

Alex monte au sommet d'une tour.

Il a déjà monté 146 marches. Il lui reste encore 148 marches.

Combien de marches y a-t-il en tout ?




58

Alex monte au sommet d'une tour.

Il a déjà monté 146 marches. Il lui reste encore 148 marches.

Combien de marches y a-t-il en tout ?



Lisa a une collection de 133 cartes d'animaux.

Comme elle en a 28 en double, elle décide de les donner à son frère.

Combien lui restera-t-il de cartes ?

--	--

59



Lisa a une collection de 133 cartes d'animaux.

Comme elle en a 28 en double, elle décide de les donner à son frère.

Combien lui restera-t-il de cartes ?

--	--

59



Lisa a une collection de 133 cartes d'animaux.

Comme elle en a 28 en double, elle décide de les donner à son frère.

Combien lui restera-t-il de cartes ?

--	--

59




60

Dans sa tirelire, Lisa n'a que des billets de 5€.

En tout, elle a 30 euros dans sa tirelire.


Combien de billets de 5€ a-t-elle ?



60

Dans son placard, Monsieur Mangetout a 56 biscuits. Il en mange 6 au petit déjeuner puis encore 5 au goûter.

Combien lui reste-t-il de biscuits à la fin de la journée ?



60

Dans son placard, Monsieur Mangetout a 56 biscuits. Il en mange 6 au petit déjeuner puis encore 5 au goûter.

Combien lui reste-t-il de biscuits à la fin de la journée ?

